

102年公務人員特種考試警察人員考試、
102年公務人員特種考試一般警察人員考試及
102年特種考試交通事業鐵路人員考試試題

代號：50860

全七頁
第一頁

等 別：三等警察人員考試
類 科：交通警察人員交通組
科 目：交通統計與分析
考試時間：2小時

座號：_____

※注意：(一)可以使用電子計算器。

(二)不必抄題，作答時請將試題題號及答案依照順序寫在試卷上，於本試題上作答者，不予計分。

(三)相關附表請參閱第三頁至第七頁。

一、請詳細回答下列問題，並作必要之解釋：（每小題5分，共25分）

(一)何謂卡方分配（Chi-square distribution）？其參數為何？卡方分配之隨機變數的平均值與變異數各為何？

(二)何謂自由度（degree of freedom）？

(三)何謂無母數統計分析（nonparametric statistical analysis）？並舉出兩個無母數統計分析之檢定方法。

(四)在迴歸分析中，對殘差項作何假設？

(五)在假設檢定分析中，p值（p-value）所代表之意義為何？

二、為瞭解基層交通警察對A、B、C三種執法勤務之偏好是否相同，乃隨機抽取300位基層交通警察進行調查訪問，結果有75位喜歡A勤務、110位喜歡B勤務、其餘之115位喜歡C勤務，請問您該如何進行假設檢定：

(一)請問您的虛無假設（null hypothesis）及對立假設（alternative hypothesis）各為何？（5分）

(二)請問您的檢定統計量（statistic）為何？（5分）

(三)在顯著水準 $\alpha=0.01$ 下，檢定的決策法則（decision rule）為何？（5分）

(四)請完成所有計算過程，並對檢定結果作成結論。（10分）

（請接第二頁）

102年公務人員特種考試警察人員考試、
102年公務人員特種考試一般警察人員考試及
102年特種考試交通事業鐵路人員考試試題

代號：50860

全七頁
第二頁

等 別：三等警察人員考試
類 科：交通警察人員交通組
科 目：交通統計與分析

三、下表為隨機抽樣調查行人穿越某一號誌管制路口之步行速率（公尺/分）資料。

組距	50~59.9	60~69.9	70~79.9	80~89.9	90~100
人數	8	22	40	25	5

(一)請估算其平均步行速率與標準差。（10分）

(二)行人步行速率為設計最短綠燈時間的參數之一。依據該項調查資料，您所選擇的數據為何？（10分）

(三)該項資料最有可能符合何種分配型態？理由何在？（5分）

四、隨機抽樣調查 n 家百貨公司週末之停車需求（單位為車位小時/日） $D_i, i=1 \sim n$ ，及其營業樓地板面積（平方公尺） $F_i, i=1 \sim n$ 。

(一)如果要探討這兩個變數之間是否有因果關係，宜選擇何者為獨立變數（independent variable）？何者為應變數（dependent variable）？（5分）

(二)如欲構建其線性迴歸模式，請列出其數學式，並說明如何估計其參數以及參數的意義。（15分）

(三)除了探討變數的關係之外，此種迴歸模式還有什麼其他用途？（5分）

（請接第三頁）

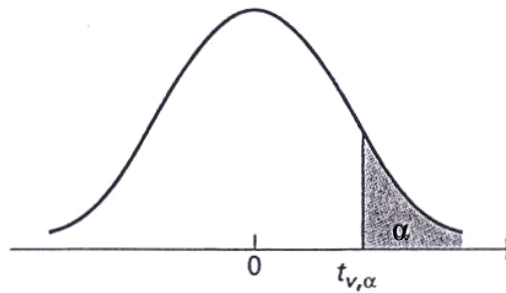
102年公務人員特種考試警察人員考試、
 102年公務人員特種考試一般警察人員考試及
 102年特種考試交通事業鐵路人員考試試題

代號：50860

全七頁
 第三頁

等 別：三等警察人員考試
 類 科：交通警察人員交通組
 科 目：交通統計與分析

附表 1：Cutoff Points for the Student's t Distribution



For selected probabilities, α , the table shows the values $t_{v, \alpha}$ such that $P(t_v > t_{v, \alpha}) = \alpha$, where t_v is a Student's t random variable with ν degrees of freedom. For example, the probability is .10 that a Student's t random variable with 10 degrees of freedom exceeds 1.372.

ν	α				
	0.100	0.050	0.025	0.010	0.005
1	3.078	6.314	12.706	31.821	63.657
2	1.886	2.920	4.303	6.965	9.925
3	1.638	2.353	3.182	4.541	5.841
4	1.533	2.132	2.776	3.747	4.604
5	1.476	2.015	2.571	3.365	4.032
6	1.440	1.943	2.447	3.143	3.707
7	1.415	1.895	2.365	2.998	3.499
8	1.397	1.860	2.306	2.896	3.355
9	1.383	1.833	2.262	2.821	3.250
10	1.372	1.812	2.228	2.764	3.169
11	1.363	1.796	2.201	2.718	3.106
12	1.356	1.782	2.179	2.681	3.055
13	1.350	1.771	2.160	2.650	3.012
14	1.345	1.761	2.145	2.624	2.977
15	1.341	1.753	2.131	2.602	2.947
16	1.337	1.746	2.120	2.583	2.921
17	1.333	1.740	2.110	2.567	2.898
18	1.330	1.734	2.101	2.552	2.878
19	1.328	1.729	2.093	2.539	2.861
20	1.325	1.725	2.086	2.528	2.845
21	1.323	1.721	2.080	2.518	2.831
22	1.321	1.717	2.074	2.508	2.819
23	1.319	1.714	2.069	2.500	2.807
24	1.318	1.711	2.064	2.492	2.797
25	1.316	1.708	2.060	2.485	2.787
26	1.315	1.706	2.056	2.479	2.779
27	1.314	1.703	2.052	2.473	2.771
28	1.313	1.701	2.048	2.467	2.763
29	1.311	1.699	2.045	2.462	2.756
30	1.310	1.697	2.042	2.457	2.750
40	1.303	1.684	2.021	2.423	2.704
60	1.296	1.671	2.000	2.390	2.660
∞	1.282	1.645	1.960	2.326	2.576

(請接第四頁)

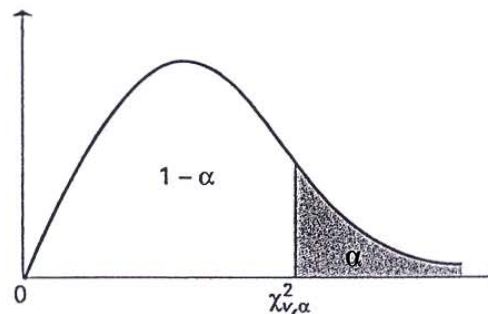
102年公務人員特種考試警察人員考試、
 102年公務人員特種考試一般警察人員考試及
 102年特種考試交通事業鐵路人員考試試題

代號：50860

全七頁
 第四頁

等 別：三等警察人員考試
 類 科：交通警察人員交通組
 科 目：交通統計與分析

附表 2：Cutoff Points of the Chi-Square Distribution Function



For selected probabilities α , the table shows the values $\chi^2_{v,\alpha}$ such that $P(\chi^2_v > \chi^2_{v,\alpha}) = \alpha$, where χ^2_v is a chi-square random variable with v degrees of freedom. For example, the probability is .100 that a chi-square random variable with 10 degrees of freedom is greater than 15.99.

ν	α									
	.995	.990	.975	.950	.900	.100	.050	.025	.010	.005
1	0.004393	0.003157	0.003982	0.003993	0.0158	2.71	3.84	5.02	6.63	7.88
2	0.0100	0.0201	0.0506	0.103	0.211	4.61	5.99	7.38	9.21	10.60
3	0.072	0.115	0.216	0.352	0.584	6.25	7.81	9.35	11.34	12.84
4	0.207	0.297	0.484	0.711	1.064	7.78	9.49	11.14	13.28	14.86
5	0.412	0.554	0.831	1.145	1.61	9.24	11.07	12.83	15.09	16.75
6	0.676	0.872	1.24	1.64	2.20	10.64	12.59	14.45	16.81	18.55
7	0.989	1.24	1.69	2.17	2.83	12.02	14.07	16.01	18.48	20.28
8	1.34	1.65	2.18	2.73	3.49	13.36	15.51	17.53	20.09	21.96
9	1.73	2.09	2.70	3.33	4.17	14.68	16.92	19.02	21.67	23.59
10	2.16	2.56	3.25	3.94	4.87	15.99	18.31	20.48	23.21	25.19
11	2.60	3.05	3.82	4.57	5.58	17.28	19.68	21.92	24.73	26.76
12	3.07	3.57	4.40	5.23	6.30	18.55	21.03	23.34	26.22	28.30
13	3.57	4.11	5.01	5.89	7.04	19.81	22.36	24.74	27.69	29.82
14	4.07	4.66	5.63	6.57	7.79	21.06	23.68	26.12	29.14	31.32
15	4.60	5.23	6.26	7.26	8.55	22.31	25.00	27.49	30.58	32.80
16	5.14	5.81	6.91	7.96	9.31	23.54	26.30	28.85	32.00	34.27
17	5.70	6.41	7.56	8.67	10.09	24.77	27.59	30.19	33.41	35.72
18	6.26	7.01	8.23	9.39	10.86	25.99	28.87	31.53	34.81	37.16
19	6.84	7.63	8.91	10.12	11.65	27.20	30.14	32.85	36.19	38.58
20	7.43	8.26	9.59	10.85	12.44	28.41	31.41	34.17	37.57	40.00
21	8.03	8.90	10.28	11.59	13.24	29.62	32.67	35.48	38.93	41.40
22	8.64	9.54	10.98	12.34	14.04	30.81	33.92	36.78	40.29	42.80
23	9.26	10.20	11.69	13.09	14.85	32.01	35.17	38.08	41.64	44.18
24	9.89	10.86	12.40	13.85	15.66	33.20	36.42	39.36	42.98	45.56
25	10.52	11.52	13.12	14.61	16.47	34.38	37.65	40.65	44.31	46.93
26	11.16	12.20	13.84	15.38	17.29	35.56	38.89	41.92	45.64	48.29
27	11.81	12.88	14.57	16.15	18.11	36.74	40.11	43.19	46.96	49.64
28	12.46	13.56	15.31	16.93	18.94	37.92	41.34	44.46	48.28	50.99
29	13.12	14.26	16.05	17.71	19.77	39.09	42.56	45.72	49.59	52.34
30	13.79	14.95	16.79	18.49	20.60	40.26	43.77	46.98	50.89	53.67
40	20.71	22.16	24.43	26.51	29.05	51.81	55.76	59.34	63.69	66.77
50	27.99	29.71	32.36	34.76	37.69	63.17	67.50	71.42	76.15	79.49
60	35.53	37.48	40.48	43.19	46.46	74.40	79.08	83.30	88.38	91.95
70	43.28	45.44	48.76	51.74	55.33	85.53	90.53	95.02	100.4	104.2
80	51.17	53.54	57.15	60.39	64.28	96.58	101.9	106.6	112.3	116.3
90	59.20	61.75	65.65	69.13	73.29	107.6	113.1	118.1	124.1	128.3
100	67.33	70.06	74.22	77.93	82.36	118.5	124.3	129.6	135.8	140.2

(請接第五頁)

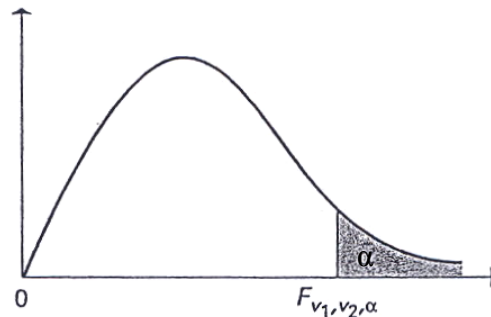
102年公務人員特種考試警察人員考試、
 102年公務人員特種考試一般警察人員考試及
 102年特種考試交通事業鐵路人員考試試題

代號：50860

全七頁
 第五頁

等 別：三等警察人員考試
 類 科：交通警察人員交通組
 科 目：交通統計與分析

附表 3：Cutoff Points for the F Distribution



Probabilities $\alpha=0.5$ and $\alpha=.01$, the tables show the values $F_{v_1, v_2, \alpha}$ such that $P(F_{v_1, v_2} > F_{v_1, v_2, \alpha}) = \alpha$, where F_{v_1, v_2} is an F random variable, with numerator degrees of freedom v_1 and denominator degree of freedom v_2 . For example, the probability is .05 that an $F_{3,7}$ random variable exceeds 4.35.

$\alpha=.01$																			
DENOMINATOR v_2		NUMERATOR v_1																	
	1	2	3	4	5	6	7	8	9	10	12	15	20	24	30	40	60	120	∞
1	4052	4999.5	5403	5625	5764	5859	5928	5982	6022	6056	6106	6157	6209	6235	6261	6287	6313	6339	6366
2	98.50	99.00	99.17	99.25	99.30	99.33	99.36	99.37	99.39	99.40	99.42	99.43	99.45	99.46	99.47	99.47	99.48	99.48	99.50
3	34.12	30.82	29.46	28.71	28.24	27.91	27.67	27.49	27.35	27.23	27.05	26.87	26.69	26.60	26.50	26.41	26.32	26.22	26.13
4	21.20	18.00	16.69	15.98	15.52	15.21	14.98	14.80	14.66	14.55	14.37	14.20	14.02	13.93	13.84	13.75	13.65	13.56	13.46
5	16.26	13.27	12.06	11.39	10.97	10.67	10.46	10.29	10.16	10.05	9.89	9.72	9.55	9.47	9.38	9.29	9.20	9.11	9.02
6	13.75	10.92	9.78	9.15	8.75	8.47	8.26	8.10	7.98	7.87	7.72	7.56	7.40	7.31	7.23	7.14	7.06	6.97	6.88
7	12.25	9.55	8.45	7.85	7.46	7.19	6.99	6.84	6.72	6.62	6.47	6.31	6.16	6.07	5.99	5.91	5.82	5.74	5.65
8	11.26	8.65	7.59	7.01	6.63	6.37	6.18	6.03	5.91	5.81	5.67	5.52	5.36	5.28	5.20	5.12	5.03	4.95	4.86
9	10.56	8.02	6.99	6.42	6.06	5.80	5.61	5.47	5.35	5.26	5.11	4.96	4.81	4.73	4.65	4.57	4.48	4.40	4.31
10	10.04	7.56	6.55	5.99	5.64	5.39	5.30	5.06	4.94	4.85	4.71	4.56	4.41	4.33	4.25	4.17	4.08	4.00	3.91
11	9.65	7.21	6.22	5.67	5.32	5.07	4.89	4.74	4.63	4.54	4.40	4.25	4.10	4.02	3.94	3.86	3.78	3.69	3.60
12	9.33	6.93	5.95	5.41	5.06	4.82	4.64	4.50	4.39	4.30	4.16	4.01	3.86	3.78	3.70	3.62	3.54	3.45	3.36
13	9.07	6.70	5.74	5.21	4.86	4.62	4.44	4.30	4.19	4.10	3.96	3.82	3.66	3.59	3.51	3.43	3.34	3.25	3.17
14	8.86	6.51	5.56	5.04	4.69	4.46	4.28	4.14	4.03	3.94	3.80	3.66	3.51	3.43	3.35	3.27	3.18	3.09	3.00
15	8.68	6.36	5.42	4.89	4.56	4.32	4.14	4.00	3.89	3.80	3.67	3.52	3.37	3.29	3.21	3.13	3.05	2.96	2.87
16	8.53	6.23	5.29	4.77	4.44	4.20	4.03	3.89	3.78	3.69	3.55	3.41	3.26	3.18	3.10	3.02	2.93	2.84	2.75
17	8.40	6.11	5.18	4.67	4.34	4.10	3.93	3.79	3.68	3.59	3.46	3.31	3.16	3.08	3.00	2.92	2.83	2.75	2.65
18	8.29	6.01	5.09	4.58	4.25	4.01	3.84	3.71	3.60	3.51	3.37	3.23	3.08	3.00	2.92	2.84	2.75	2.66	2.57
19	8.18	5.93	5.01	4.50	4.17	3.94	3.77	3.63	3.52	3.43	3.30	3.15	3.00	2.92	2.84	2.76	2.67	2.58	2.49
20	8.10	5.85	4.94	4.43	4.10	3.87	3.70	3.56	3.46	3.37	3.23	3.09	2.94	2.86	2.78	2.69	2.61	2.52	2.42
21	8.02	5.78	4.87	4.37	4.04	3.81	3.64	3.51	3.40	3.31	3.17	3.03	2.88	2.80	2.72	2.64	2.55	2.46	2.36
22	7.95	5.72	4.82	4.31	3.99	3.76	3.59	3.45	3.35	3.26	3.12	2.98	2.83	2.75	2.67	2.58	2.50	2.30	2.31
23	7.88	5.66	4.76	4.26	3.94	3.71	3.54	3.41	3.30	3.21	3.07	2.93	2.78	2.70	2.62	2.54	2.45	2.35	2.26
24	7.82	5.61	4.72	4.22	3.90	3.67	3.50	3.36	3.26	3.17	3.03	2.89	2.74	2.66	2.58	2.49	2.40	2.31	2.21
25	7.77	5.57	4.68	4.18	3.85	3.63	3.46	3.32	3.22	3.13	2.99	2.85	2.70	2.62	2.54	2.45	2.36	2.27	2.17
26	7.72	5.53	4.64	4.14	3.82	3.59	3.42	3.29	3.18	3.09	2.96	2.81	2.66	2.58	2.50	2.42	2.33	2.23	2.13
27	7.68	5.49	4.60	4.11	3.78	3.56	3.39	3.26	3.15	3.06	2.93	2.78	2.63	2.55	2.47	2.38	2.29	2.20	2.10
28	7.64	5.45	4.57	4.07	3.75	3.53	3.36	3.23	3.12	3.03	2.90	2.75	2.60	2.52	2.44	2.35	2.26	2.17	2.06
29	7.60	5.42	4.54	4.04	3.73	3.50	3.33	3.20	3.09	3.00	2.87	2.73	2.57	2.49	2.41	2.33	2.23	2.14	2.03
30	7.56	5.39	4.51	4.02	3.70	3.47	3.30	3.17	3.07	2.98	2.84	2.70	2.55	2.47	2.39	2.30	2.21	2.11	2.01
40	7.31	5.18	4.31	3.83	3.51	3.29	3.12	2.99	2.89	2.80	2.66	2.52	2.37	2.29	2.20	2.11	2.02	1.92	1.80
60	7.08	4.98	4.13	3.65	3.34	3.12	2.95	2.82	2.72	2.63	2.50	2.35	2.20	2.12	2.03	1.94	1.84	1.73	1.60
120	6.85	4.79	3.95	3.48	3.17	2.96	2.79	2.66	2.56	2.47	2.34	2.19	2.03	1.95	1.86	1.76	1.66	1.53	1.38
∞	6.63	4.61	3.78	3.32	3.02	2.80	2.64	2.51	2.41	2.32	2.18	2.04	1.88	1.79	1.70	1.59	1.47	1.32	1.00

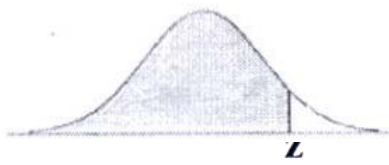
(請接第六頁)

102年公務人員特種考試警察人員考試、
 102年公務人員特種考試一般警察人員考試及
 102年特種考試交通事業鐵路人員考試試題

代號：50860

等 別：三等警察人員考試
 類 科：交通警察人員交通組
 科 目：交通統計與分析

附表 4：標準常態分配表



Z	0.00	0.01	0.02	0.03	0.04	0.05	0.06	0.07	0.08	0.09
0.0	0.5000	0.5040	0.5080	0.5120	0.5160	0.5199	0.5239	0.5279	0.5319	0.5359
0.1	0.5398	0.5438	0.5478	0.5517	0.5557	0.5596	0.5636	0.5675	0.5714	0.5753
0.2	0.5793	0.5832	0.5871	0.5910	0.5948	0.5987	0.6026	0.6064	0.6103	0.6141
0.3	0.6179	0.6217	0.6255	0.6293	0.6331	0.6368	0.6406	0.6443	0.6480	0.6517
0.4	0.6554	0.6591	0.6628	0.6664	0.6700	0.6736	0.6772	0.6808	0.6844	0.6879
0.5	0.6915	0.6950	0.6985	0.7019	0.7054	0.7088	0.7123	0.7157	0.7190	0.7224
0.6	0.7257	0.7291	0.7324	0.7357	0.7389	0.7422	0.7454	0.7486	0.7517	0.7549
0.7	0.7580	0.7611	0.7642	0.7673	0.7704	0.7734	0.7764	0.7794	0.7823	0.7852
0.8	0.7881	0.7910	0.7939	0.7967	0.7995	0.8023	0.8051	0.8078	0.8106	0.8133
0.9	0.8159	0.8186	0.8212	0.8238	0.8264	0.8289	0.8315	0.8340	0.8365	0.8389
1.0	0.8413	0.8438	0.8461	0.8485	0.8508	0.8531	0.8554	0.8577	0.8599	0.8621
1.1	0.8643	0.8665	0.8686	0.8708	0.8729	0.8749	0.8770	0.8790	0.8810	0.8830
1.2	0.8849	0.8869	0.8888	0.8907	0.8925	0.8944	0.8962	0.8980	0.8997	0.9015
1.3	0.9032	0.9049	0.9066	0.9082	0.9099	0.9115	0.9131	0.9147	0.9162	0.9177
1.4	0.9192	0.9207	0.9222	0.9236	0.9251	0.9265	0.9279	0.9292	0.9306	0.9319
1.5	0.9332	0.9345	0.9357	0.9370	0.9382	0.9394	0.9406	0.9418	0.9429	0.9441
1.6	0.9452	0.9463	0.9474	0.9484	0.9495	0.9505	0.9515	0.9525	0.9535	0.9545
1.7	0.9554	0.9564	0.9573	0.9582	0.9591	0.9599	0.9608	0.9616	0.9625	0.9633
1.8	0.9641	0.9649	0.9656	0.9664	0.9671	0.9678	0.9686	0.9693	0.9699	0.9706
1.9	0.9713	0.9719	0.9726	0.9732	0.9738	0.9744	0.9750	0.9756	0.9761	0.9767
2.0	0.9772	0.9778	0.9783	0.9788	0.9793	0.9798	0.9803	0.9808	0.9812	0.9817
2.1	0.9821	0.9826	0.9830	0.9834	0.9838	0.9842	0.9846	0.9850	0.9854	0.9857
2.2	0.9861	0.9864	0.9868	0.9871	0.9875	0.9878	0.9881	0.9884	0.9887	0.9890
2.3	0.9893	0.9896	0.9898	0.9901	0.9904	0.9906	0.9909	0.9911	0.9913	0.9916
2.4	0.9918	0.9920	0.9922	0.9925	0.9927	0.9929	0.9931	0.9932	0.9934	0.9936
2.5	0.9938	0.9940	0.9941	0.9943	0.9945	0.9946	0.9948	0.9949	0.9951	0.9952
2.6	0.9953	0.9955	0.9956	0.9957	0.9959	0.9960	0.9961	0.9962	0.9963	0.9964
2.7	0.9965	0.9966	0.9967	0.9968	0.9969	0.9970	0.9971	0.9972	0.9973	0.9974
2.8	0.9974	0.9975	0.9976	0.9977	0.9977	0.9978	0.9979	0.9979	0.9980	0.9981
2.9	0.9981	0.9982	0.9982	0.9983	0.9984	0.9984	0.9985	0.9985	0.9986	0.9986
3.0	0.9987	0.9987	0.9987	0.9988	0.9988	0.9989	0.9989	0.9989	0.9990	0.9990

(請接第七頁)


102年公務人員特種考試警察人員考試、
 102年公務人員特種考試一般警察人員考試及
 102年特種考試交通事業鐵路人員考試試題

代號：50860

全七頁
 第七頁

等 別：三等警察人員考試
 類 科：交通警察人員交通組
 科 目：交通統計與分析

附表 5：卡方分配表



$d.f.$ \ α	.995	.990	.975	.950	.050	.025	.010	.005
1	392704×10^{-10}	157088×10^{-9}	982069×10^{-9}	393214×10^{-8}	3.84146	5.02389	6.63490	7.87944
2	.0100251	.0201007	.0506356	.102587	5.99147	7.37776	9.21034	10.5966
3	.0717212	.114832	.215795	.351846	7.81473	9.34840	11.3449	12.8381
4	.206990	.297110	.484419	.710721	9.48773	11.1433	13.2767	14.8602
5	.411740	.554300	.831211	1.145476	11.0705	12.8325	15.0863	16.7496
6	.675727	.872085	1.237347	1.63539	12.5916	14.4494	16.8119	18.5476
7	.989265	1.239043	1.68987	2.16735	14.0671	16.0128	18.4753	20.2777
8	1.344419	1.646482	2.17973	2.73264	15.5073	17.5346	20.0902	21.9550
9	1.734926	2.087912	2.70039	3.32511	16.9190	19.0228	21.6660	23.5893
10	2.15585	2.55821	3.24697	3.94030	18.3070	20.4831	23.2093	25.1882
11	2.60321	3.05347	3.81575	4.57481	19.6751	21.9200	24.7250	26.7569
12	3.07382	3.57056	4.40379	5.22603	21.0261	23.3367	26.2170	28.2995
13	3.56503	4.10691	5.00874	5.89186	22.3621	24.7356	27.6883	29.8194
14	4.07468	4.66043	5.62872	6.57063	23.6848	26.1190	29.1413	31.3193
15	4.60094	5.22935	6.26214	7.26094	24.9958	27.4884	30.5779	32.8013
16	5.14224	5.81221	6.90766	7.96164	26.2962	28.8454	31.9999	34.2672
17	5.69724	6.40776	7.56418	8.67176	27.5871	30.1910	33.4087	35.7185
18	6.26481	7.01491	8.23075	9.39046	28.8693	31.5264	34.8053	37.1564
19	6.84398	7.63273	8.90655	10.1170	30.1435	32.8523	36.1908	38.5822
20	7.43386	8.26040	9.59083	10.8508	31.4104	34.1696	37.5662	39.9968
21	8.03366	8.89720	10.28293	11.5913	32.6705	35.4789	38.9321	41.4010
22	8.64272	9.54249	10.9823	12.3380	33.9244	36.7807	40.2894	42.7956
23	9.26042	10.19567	11.6885	13.0905	35.1725	38.0757	41.6384	44.1813
24	9.88623	10.8564	12.4011	13.8484	36.4151	39.3641	42.9798	45.5585
25	10.5197	11.5240	13.1197	14.6114	37.6525	40.6465	44.3141	46.9278
26	11.1603	12.1981	13.8439	15.3791	38.8852	41.9232	45.6417	48.2899
27	11.8076	12.8786	14.5733	16.1513	40.1133	43.1944	46.9630	49.6449
28	12.4613	13.5648	15.3079	16.9279	41.3372	44.4607	48.2782	50.9933
29	13.1211	14.2565	16.0471	17.7083	42.5569	45.7222	49.5879	52.3356
30	13.7867	14.9535	16.7908	18.4926	43.7729	46.9792	50.8922	53.6720
40	20.7065	22.1643	24.4331	26.5093	55.7585	59.3417	63.6907	66.7659
50	27.9907	29.7067	32.3574	34.7642	67.5048	71.4202	76.1539	79.4900
60	35.5346	37.4848	40.4817	43.1879	79.0819	83.2976	88.3794	91.9517
70	43.2752	45.4418	48.7576	51.7393	90.5312	95.0231	100.425	104.215
80	51.1720	53.5400	57.1532	60.3915	101.879	106.629	112.329	116.321
90	59.1963	61.7541	65.6466	69.1260	113.145	118.136	124.116	128.299
100	67.3276	70.0648	74.2219	77.9295	124.342	129.561	135.807	140.169