

等 別：四等關務人員考試

類(科)別：一般行政

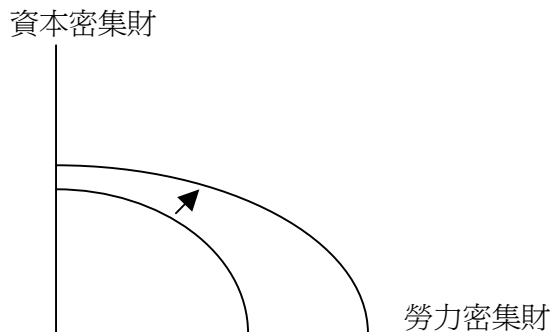
科 目：經濟學概要

考試時間：1 小時

座號：\_\_\_\_\_

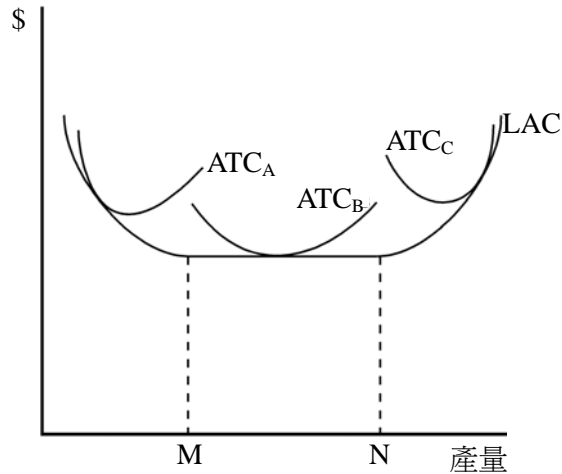
- ※注意：(一)本試題為單一選擇題，請選出一個正確或最適當的答案，複選作答者，該題不予計分。  
(二)本科目共 50 題，每題 2 分，須用 2B 鉛筆在試卡上依題號清楚劃記，於本試題上作答者，不予計分。  
(三)禁止使用電子計算器。

- 1 如果從單位產出所需的勞動投入來觀察，假設美國生產一台電腦需二個工作天，生產一台汽車需要三十個工作天；而台灣生產一台電腦需要一個工作天，生產一台汽車需要二十五個工作天，請問以下何者正確？  
(A)台灣有生產電腦的絕對利益 (B)美國有生產汽車的絕對利益  
(C)台灣與美國互相貿易將會降低彼此的福利 (D)台灣應該利用其比較利益專業生產汽車
- 2 下列何者不是生產要素？  
(A)土地 (B)勞動 (C)資本 (D)貨幣
- 3 下列何者是實是性敘述 (positive statement)？  
(A)環境保護優先於經濟發展 (B)國家尊嚴重於經濟利益  
(C)政府應促進經濟成長，才能追求分配均等 (D)貿易保護使消費者利益受損
- 4 水平的需求線隱含何種特性？  
(A)當市場價格下降一元會多買一單位商品 (B)需求價格彈性等於零  
(C)市場價格由需求線決定 (D)市場價格由供給線決定
- 5 下列何者最能解釋下圖中生產可能線外移的情形？

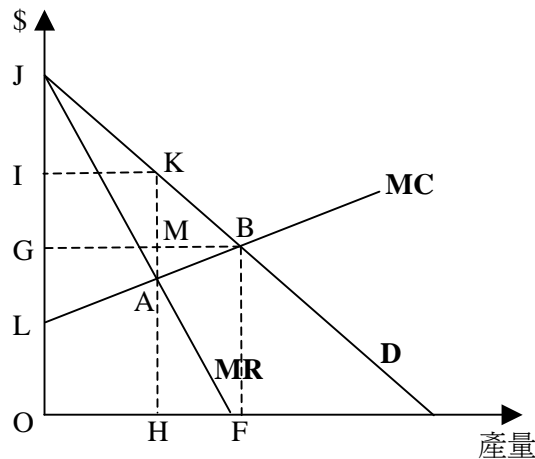


- (A)外資移入 (B)儲蓄增加  
(C)資源由資本密集產業移轉至勞力密集產業 (D)勞動節約的技術進步
- 6 牛奶價格大漲民眾紛紛改喝豆漿，則下列敘述何者錯誤？  
(A)牛奶和豆漿是替代品 (B)黃豆價格可能上漲 (C)牛奶的需求線左移 (D)豆漿的需求線右移
- 7 梨子和蘋果的關係是：  
(A)生產上的替代品 (B)生產上的互補品 (C)消費上的互補品 (D)互為獨立產品
- 8 某商品之市場需求函數為  $Q^d = 15 - 3P$ ，市場供給函數為  $Q^s = P - 1$ 。則市場均衡時的需求價格彈性為：  
(A) 4/9 (B) 1/3 (C) 4/3 (D) 4
- 9 若蘋果的需求函數為  $Q^d = 1000 - 5P$ ，供給函數為  $Q^s = -200 + 25P$ ，則蘋果的均衡價格及數量應分別為：  
(A) 20, 700 (B) 30, 550 (C) 40, 800 (D) 60, 700
- 10 經濟學家假設個人的經濟行為，在追求什麼的極大？  
(A)社會公平 (B)經濟效率 (C)效用 (D)自由競爭
- 11 令供給函數為  $Q = 2P - 12$ ，當  $Q = 4$  時，供給的價格彈性等於：  
(A) 1/2 (B) 1 (C) 2 (D) 4
- 12 若廠商生產某物品的機會成本為 100 元，而此物品的市場價格為 120 元，則「生產者剩餘」為：  
(A) 20 元 (B) 100 元 (C) 120 元 (D) 220 元
- 13 若市場供給線為水平線，而市場均衡下的消費者剩餘為 60，則總剩餘應該：  
(A)大於 60 (B)等於 60 (C)小於 60 (D)等於 0
- 14 在生產過程中，可以增加或減少的投入要素稱為：  
(A)固定投入 (B)變動投入 (C)遞減報酬 (D)遞增報酬

- 15 下列關於完全競爭廠商短期停業價格的敘述，何者正確？  
 (A) 當市場價格高於停業價格時，廠商之利潤必為正  
 (B) 廠商之短期停業價格等於最小平均總成本  
 (C) 短期停業價格位於邊際成本線與平均變動成本線的交點  
 (D) 高於短期停業價格的平均變動成本線為廠商的短期供給線
- 16 若完全競爭產業的長期供給線為正斜率，則反應出該產業是一個：  
 (A) 成本遞增產業 (B) 成本遞減產業 (C) 成本不變之產業 (D) 正常財貨產業
- 17 下圖為一家生產汽車廠商的平均總成本函數，那條曲線最符合最小規模的短期平均總成本特徵？



- (A)  $ATC_A$  (B)  $ATC_B$  (C)  $ATC_C$  (D) LAC
- 18 邊際成本 (MC) 與平均變動成本 (AVC) 相交於：  
 (A) MC 的最低點 (B) AVC 的最低點 (C) AVC 上升的階段 (D) AVC 下降的階段
- 19 在下列台灣的產業中，何者最接近完全競爭？  
 (A) 泡沫紅茶 (B) 空心菜 (C) 手機 (D) 汽車
- 20 在相同成本下，下列有關第一、二、三級差別訂價之敘述，何者正確？  
 (A) 只有第一、二級差別訂價下的產量會比獨占的單一訂價時多，第三級差別訂價下的產量則不一定  
 (B) 第一、二、三級差別訂價下的產量都會比獨占的單一訂價時多  
 (C) 第一、二、三級差別訂價都必須是獨占廠商才能採行  
 (D) 第一、二、三級差別訂價下的社會福利都會比獨占的單一訂價時多
- 21 對存在進入障礙的獨占者長期均衡，下列敘述何者錯誤？  
 (A) 位於平均成本的最低點 (B) 可以保有超額利潤  
 (C) 訂價會高於邊際成本 (D) 會有生產上的無效率
- 22 產品異質寡占廠商均衡時，會符合下列那個條件？  
 (A) 在  $P=MC$  生產 (B) 在  $P=AC$  生產 (C) 在  $MR=MC$  生產 (D) 在 AC 最低點生產
- 23 假設 MC 在完全競爭市場為廠商的供給線，依下圖做完全差別訂價獨占者和完全競爭市場的均衡比較，下列何者正確？



- (A) 完全差別訂價獨占者的消費者剩餘和完全競爭市場一樣都是 JGB  
 (B) 完全差別訂價獨占者的生產者剩餘是 JLB，而完全競爭市場則是 GLB  
 (C) 完全差別訂價獨占者生產在 H，而完全競爭市場的產量在 F  
 (D) 完全競爭市場的社會福利較大

- 24 下列何者跟資本的報酬無關？  
 (A)人有時間偏好 (B)資本具有生產力 (C)資本家承擔不確定性 (D)迂迴式生產需要資本
- 25 一個理性個人，應該如何在工作與休閒之間選擇，以求效用極大？  
 (A)追求工資收入的最大 (B)追求最長的休閒時間  
 (C)工作到工資率等於「休閒之邊際效益」 (D)工資率提高，就應該多休閒
- 26 若一項財貨一旦生產出來，很難禁止他人不付代價坐享其成，表示此財貨有以下那一個特性？  
 (A)共享性 (non-rival) (B)獨享性 (rival) (C)可排他性 (D)無法排他性
- 27 已知某完全競爭市場的成本與效益資料如下表。下列敘述何者正確？

數量 (千個)	私人邊際效益 (元/個)	社會邊際效益 (元/個)	私人邊際成本 (元/個)	社會邊際成本 (元/個)
1	70	95	30	35
2	60	85	40	45
3	50	75	50	55
4	40	65	60	65
5	30	55	70	75
6	20	45	80	85
7	10	35	90	95

- (A)此產品在生產上與消費上皆會產生負的外部性  
 (B)為促進資源的配置效率，政府應對消費者補貼而對生產者課稅  
 (C)若政府不介入，市場的均衡價格為 60 元  
 (D)若政府不介入，則市場均衡數量會比社會最適數量多
- 28 下表為四項公共財目前生產數量所對應的邊際效益、邊際成本與總支出資料，單位為萬元。若每項公共財總支出都減少 10%以減少生產量，則下列的敘述何者正確？

	邊際效益	邊際成本	總支出
公共財 1	25	20	1500
公共財 2	20	20	800
公共財 3	10	15	700
公共財 4	10	5	700

- (A)公共財 1 的生產量將趨向於最適資源配置效率產量  
 (B)公共財 3 的生產量將更為低於最適資源配置效率產量  
 (C)將有三項公共財產量會低於最適資源配置效率產量  
 (D)將有三項公共財產量會高於最適資源配置效率產量
- 29 當廠商的生產行為產生環境污染時：  
 (A)廠商的產量大於社會福利最大的產量，因為價格高於社會邊際成本  
 (B)廠商的產量小於社會福利最大的產量，因為價格低於社會邊際成本  
 (C)廠商的產量大於社會福利最大的產量，因為價格低於社會邊際成本  
 (D)廠商的產量小於社會福利最大的產量，因為價格高於社會邊際成本
- 30 下列何者包含於我國的 GDP 中？  
 (A)地下經濟 (B)在台菲傭的薪資  
 (C)台商在海外投資之獲利所得 (D)家庭主婦提供之家庭勞務
- 31 下列何者為存量之概念？  
 (A)資本形成 (B)出生人口數 (C)資本 (D)國內生產毛額
- 32 廠商會僱用勞動，是因為勞動所生產的產品可以賣錢。因此稱對勞動的需求為：  
 (A)誘發性的需求 (B)中間產品需求 (C)引申需求 (D)有彈性的需求

- 33 下列指標，何者較適合用來衡量人們的生活成本？  
(A)躉售物價指數 (B)股價加權指數 (C)進口物價指數 (D)消費者物價指數
- 34 政府提供教育與職業訓練，可以解決下列那一種失業？  
(A)循環性失業 (B)結構性失業 (C)季節性失業 (D)摩擦性失業
- 35 在工會經常採取的策略裡面，那一種會造成均衡勞動僱用量增加，均衡工資率上升？  
(A)工資談判 (B)限制外籍勞工 (C)限制進口產品 (D)威脅罷工
- 36 下列有關失業之敘述，何者正確？  
(A)衰老與身體殘障無法工作者應歸在失業人口中  
(B)想找工作，但卻未積極找工作者稱為隱藏性失業  
(C)滿 15 歲以上，有工作能力，但未找工作的學生也算在失業中  
(D)現在沒有工作，可以馬上工作，而且也正在找工作者我們視為失業
- 37 中央銀行採取緊縮貨幣的政策時：  
(A)商業銀行會做更多的貼現 (B)通貨膨脹率預期將會增加  
(C)本國貨幣會貶值 (D)貨幣供給量會減少
- 38 根據貨幣的定義，下列那一項是最廣義的貨幣？  
(A) M1 (B) M2 (C) M1A (D) M1B
- 39 下列有關貨幣乘數大小的描述，何者錯誤？  
(A)與民眾保有通貨的意願高低有關 (B)與各種存款的法定準備率高低有關  
(C)與商業銀行放款行為的積極性有關 (D)與中央銀行在公開市場的操作有關
- 40 若租稅乘數等於-4，且經濟體系的均衡產出尙小於充分就業產出 1,000 時，試問政府應如何彌補此缺口？  
(A)減稅 400 (B)增稅 400 (C)減稅 250 (D)增稅 250
- 41 下列何項因素會使總合需求線向左移動？  
(A)勞動供給減少 (B)自發性消費增加 (C)名目金融資產總量減少 (D)政府消費支出增加
- 42 在總合需求線中，物價與所得的負向關係無法由下列何種效果解釋？  
(A)實質餘額效果 (B)國內商品當期替代效果 (C)國際商品替代效果 (D)金融資產的財富效果
- 43 下列有關菲力普曲線 (Phillips curve) 的敘述，何者正確？  
(A)該曲線為水平線 (B)該曲線說明物價水準與失業人數之間的關係  
(C)該曲線說明物價上漲率與失業率之間具有正向關係 (D)該曲線說明物價上漲率與失業率之間具有負向關係
- 44 根據總合供需模型，若總合供給線向右移動，則：  
(A)均衡所得與物價皆上升 (B)均衡所得上升，均衡物價下降  
(C)均衡所得減少，均衡物價上升 (D)均衡所得與物價皆下降
- 45 如果美元兌換台幣匯率為 30，美元兌換日圓的匯率為 120，則一元台幣可以兌換多少日圓？  
(A) 0.25 (B) 4 (C) 36 (D) 90
- 46 在固定匯率制度且其他情況不變之下，根據購買力平價說，若甲國的貨幣供給增加，則下列何者正確？  
(A)甲國物價上升，乙國物價呈等比例上升 (B)甲國物價上升，乙國物價不呈等比例上升  
(C)甲國物價下降，乙國物價呈等比例下降 (D)甲國物價下降，乙國物價不呈等比例下降
- 47 下列何者是我國的外匯需求者？  
(A)進口商 (B)外國觀光客 (C)出口商 (D)來台投資的外商
- 48 假如名目利率是 6%，物價膨脹率是 9%，則實質利率約為：  
(A) 15% (B) 3% (C) -3% (D) -15%
- 49 在其他條件不變之下，若本國為一個小型開放經濟社會，且實施浮動匯率制度，則下列何者會導致國幣的貶值？  
(A)政府降低進口關稅稅率 (B)政府減少進口品的配額  
(C)政府提高出口補貼金額 (D)政府加強對資本外流的管制
- 50 透過政府租稅和支出工具以影響經濟活動者稱為：  
(A)貨幣政策 (B)財政政策 (C)所得政策 (D)貿易政策

## 測驗題標準答案

考試名稱： 98年 公務人員特種考試基層警察人員、稅務人員、退除役軍人轉任公務人員、海岸巡防人員、關務人員、國軍上校以上軍官轉任公務人員考試

類科名稱： 關務：一般行政

科目名稱： 經濟學概要（試題代號：4741）

題 數： 50題

標準答案：

題序	01	02	03	04	05	06	07	08	09	10	11	12	13	14	15	16	17	18	19	20
答案	A	D	D	C	D	C	A	D	C	C	D	A	B	B	C	A	A	B	B	A

題序	21	22	23	24	25	26	27	28	29	30	31	32	33	34	35	36	37	38	39	40
答案	A	C	B	C	C	D	B	C	C	B	C	C	D	B	C	D	D	B	D	C

題序	41	42	43	44	45	46	47	48	49	50
答案	C	B	D	B	B	A	A	C	A	B

備 註： 無更正紀錄。