

等 別：四等考試
類 科：金融保險、經建行政
科 目：經濟學概要
考試時間：1 小時

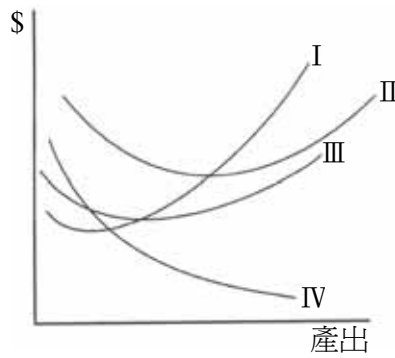
座號：_____

※注意：(一)本試題為單一選擇題，請選出一個正確或最適當的答案，複選作答者，該題不予計分。
(二)本科目共 50 題，每題 2 分，須用 2B 鉛筆在試卡上依題號清楚劃記，於本試題上作答者，不予計分。
(三)禁止使用電子計算器。

- 1 甲有 1000 元禮券，考慮購買 A, B, C, D 四項商品之一，每項商品的售價都是 1000 元。最後，甲購買商品 A，其機會成本為：
(A) 1000 元 (B) 3000 元
(C) 其他三項商品的價值總和 (D) 其他三項商品中價值最高者
- 2 失業將造成：
(A) 生產組合點移至生產可能線內 (B) 生產組合點移至生產可能線外
(C) 生產可能線內移 (D) 生產可能線外移
- 3 若甲與乙兩國都只生產、消費食物與衣服兩種產品，而且兩國也只使用勞動來生產該兩項產品。甲國一個工人一天可生產 5 件衣服或 9 單位的食物，但乙國一個工人一天卻只能生產 4 件衣服或 8 單位的食物。若兩國間採行自由貿易，且均衡的貿易條件（指一件衣服可以交換食物的單位數）為 1.8 時，則兩國貿易所產生的貿易利得將：
(A) 全歸甲國 (B) 全歸乙國
(C) 部分歸甲國，部分歸乙國 (D) 無法決定
- 4 當市場有超額需求時，市場價格將會：
(A) 上升 (B) 不變 (C) 下降 (D) 不一定
- 5 若一商品為劣等財，則該商品價格下降時，消費者對其需求量會：
(A) 增加 (B) 減少 (C) 不變 (D) 增減不一定
- 6 市場上有二位消費者，需求函數分別為， $Q_1^d = 13 - p$ ， $Q_2^d = 8 - 2p$ 。則市場需求函數在何處有拗折？
(A) $P = 4$ (B) $P = 7$ (C) $P = 8$ (D) $P = 13$
- 7 大明對 CD 的需求為 $Q = 20 - P$ ，若 CD 的價格為 10 元，則大明所享有的消費者剩餘為：
(A) 20 元 (B) 50 元 (C) 100 元 (D) 200 元
- 8 假如消費者的效用函數中 X 物品係 Y 物品的替代品，則 X 物品的價格提高會使 Y 的需求：
(A) 增加 (B) 減少 (C) 不變 (D) 不一定
- 9 當我們說別人：「人在福中不知福」，是指這個人不惜福，按經濟學的觀點則表示這個人：
(A) 得到的福分太多，以致這些福分對他而言，總效用為零
(B) 得到的福分太多，以致這些福分對他而言，邊際效用趨近於零
(C) 得到的福分太少，以致這些福分對他而言，邊際效用遞增
(D) 得到的福分太少，以致這些福分對他而言，總效用遞增
- 10 有一 Cobb-Douglas 生產函數 $Q = L^\alpha K^{1-\alpha}$ ，其邊際產量與規模報酬分別有何種特色？
(A) 遞減，不變 (B) 遞減，遞增 (C) 不變，不變 (D) 遞增，遞增
- 11 要素價格上漲使總成本增加的幅度，決定於什麼？
(A) 價格上漲幅度以及轉嫁給消費的程度 (B) 產品價格改變使需求變化的程度
(C) 使用多少要素及其與其他要素替代的程度 (D) 產業的競爭程度
- 12 下列敘述，何者正確？
(A) 平均成本遞增時，平均產量也會遞增 (B) 邊際成本遞增時，邊際產量也會遞增
(C) 邊際成本遞增時，邊際產量不變 (D) 邊際成本遞增時，邊際產量會遞減
- 13 當成本不變之完全競爭產業的市場需求增加時，其長期均衡有何變化？
(A) 廠商家數增加 (B) 每一廠商之產量增加 (C) 產品價格提高 (D) 每一廠商之利潤增加
- 14 完全競爭廠商之短期均衡產量與下列何者無關？
(A) 要素價格 (B) 從量稅額 (C) 產品價格 (D) 固定成本

15 下圖為廠商成本結構圖。這家公司正處於邊際生產力增加時，為那一條曲線的下階段？

- (A) I
- (B) II
- (C) III
- (D) IV



16 廠商成為自然獨占的原因，下列何者錯誤？

- (A) 在需求的範圍內，長期平均成本隨著產量增加不斷下降
- (B) 廠商進入市場的套牢成本 (sunk costs) 很小
- (C) 同一產量分開由兩家廠商生產的成本比由一家廠商生產來的高
- (D) 廠商生產具有規模經濟

17 下列何者是完全競爭廠商與獨占性競爭廠商相同的短期均衡條件？

- (A) 價格等於平均總成本
- (B) 邊際收益等於平均總成本
- (C) 價格等於邊際成本
- (D) 邊際收益等於邊際成本

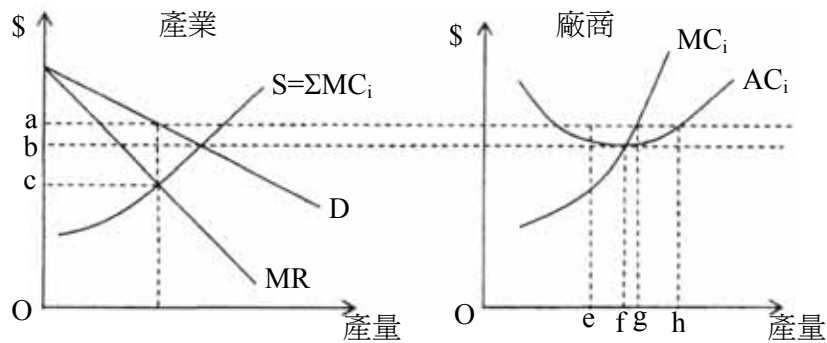
18 假設政府法令障礙並不存在於 A 市場，既存廠商的固定成本也很少，但廠商卻可自己設立障礙來嚇阻潛在競爭者進入。則 A 市場屬於：

- (A) 自然獨占
- (B) 獨占性競爭
- (C) 寡占市場
- (D) 完全競爭市場

19 無論咖啡一杯多少錢，凱莉每天早晨固定消費二杯。凱莉對咖啡的需求價格彈性等於：

- (A) 0
- (B) 1/2
- (C) 2
- (D) 無窮大

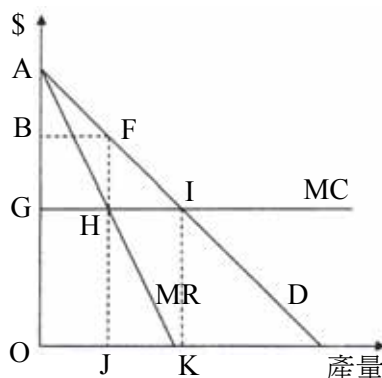
20 令完全競爭產業市場的需求和供給，及個別廠商的成本如下圖，當全部廠商形成勾結後，下列敘述何者錯誤？



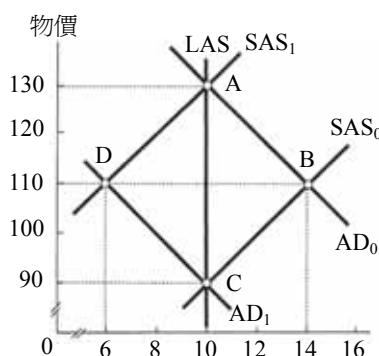
- (A) 勾結團體根據市場需求與總供給，制訂價格在 a，合作的個別廠商產量在 e，欺騙的個別廠商產量在 h
- (B) 勾結團體制訂的價格在 a，合作的個別廠商產量在 g，欺騙的個別廠商產量在 h
- (C) 勾結團體制訂的價格在 a，合作的個別廠商產量在 e，欺騙的個別廠商產量在 g
- (D) 勾結團體制訂的價格在 b，合作的個別廠商產量在 f，欺騙的個別廠商產量在 g

21 某獨占者面對的市場需求和成本如下圖，在最適產出的情況下，社會福利的絕對損失為何？

- (A) ABF
- (B) AGI
- (C) BGHF
- (D) FHI



- 22 用來解釋寡占廠商的價格僵固現象，最常運用的模型為：
 (A)賽局理論 (Game Theory) (B)拗折的需求曲線 (Kinked Demand Curve)
 (C)古爾諾 (Cournot) 競爭 (D)囚犯兩難模型 (Prisoner's dilemma Model)
- 23 借貸市場中，資金的供給主要是來自家計單位的儲蓄。以下影響儲蓄的因素，何者正確？
 (A)利率提高，減少現在消費，增加儲蓄 (B)利率提高，同時增加現在消費與儲蓄
 (C)預期未來所得提高，減少現在消費，增加儲蓄 (D)預期未來所得提高，同時減少現在消費與儲蓄
- 24 有實效的「最低工資率」規定，是指訂定：
 (A)高於現行市場均衡工資的工資上限 (B)低於現行市場均衡工資的工資上限
 (C)高於現行市場均衡工資的工資下限 (D)低於現行市場均衡工資的工資下限
- 25 若海中的鮭魚為開放資源，極可能被捕至邊際價值等於多少時為止？
 (A)鮭魚的邊際產量 (B)鮭魚的邊際收益 (C)無窮大 (D)捕魚的邊際成本
- 26 假設某生產要素的需求函數為 $D = 40 - P$ ，供給函數為 $S = -20 + P$ ，其中 D 為需求量， S 為供給量， P 為要素的使用價格。則此要素的報酬中經濟租所占的比例是多少？
 (A)二分之一 (B)四分之一 (C)六分之一 (D)八分之一
- 27 外部成本的存在，導致資源分配無法達到社會最適狀態，這是因為：
 (A)廠商不願追求利潤極大 (B)私人成本大於社會成本
 (C)社會利益大於私人利益 (D)廠商並未負擔外部成本
- 28 下列何者不屬於公共財？
 (A)衛生下水道 (B)自來水 (C)路燈 (D)垃圾清運
- 29 寇斯 (Coase) 定理指出，若無交易成本：
 (A)政府可以透過直接管制處理負的外部性問題
 (B)政府可以透過課稅處理負的外部性問題
 (C)政府可以透過補貼處理負的外部性問題
 (D)只要產權確定，外部性問題透過當事人協議，自然可達效率
- 30 下列經濟變數中何者不是存量變數？
 (A)國民所得 (B)資本 (C)技術水準 (D)貨幣供給
- 31 下列有關國民所得的敘述，何者正確？
 (A)國民生產毛額是指在一定期間內，該國國內生產的所有財貨與勞務的市場價值
 (B)國民生產毛額是指在一定期間內，該國國民在其國內生產的所有財貨與勞務的市場價值
 (C)國內生產毛額是指在一定期間內，該國國內生產的所有最終財貨與勞務的市場價值
 (D)國內生產毛額是指在一定期間內，該國國民生產的所有最終財貨與勞務的市場價值
- 32 當一位大學畢業生尚未開始找工作，則統計上他算是：
 (A)失望勞動者 (discouraged worker) (B)失業人口
 (C)勞動力 (D)非勞動力
- 33 比較國際間各國國民之生活水準，下列那一指標較合適？
 (A)實質 GNP (B)名目 GNP (C)平均每人實質 GNP (D)平均每人名目 GNP
- 34 當名目 GDP 為 10 兆，貨幣流通速度為 5，則貨幣數量為：
 (A) 5 兆 (B) 2 兆 (C) 10 兆 (D)無法判斷
- 35 如下圖，某經濟體系的長期均衡為 A 點，實質 GDP 為 10 兆且物價水準為 130；當該體系的中央銀行採取法則性的貨幣政策時，若發生總合需求的永久性下降導致曲線移動為 AD_1 ，則經濟體系最後的均衡會位於何處？



- (A) A 點
 (B) B 點
 (C) C 點
 (D) D 點

- 36 下列何者不包括在 M1B 中？
(A)紙幣 (B)定期存款 (C)支票存款 (D)鑄幣
- 37 中央銀行在公開市場中賣出債券 500 億，則貨幣供給量會有什麼變化？
(A)減少 500 億 (B)增加 500 億 (C)減少超過 500 億 (D)增加超過 500 億
- 38 在其他情況不變下，家計單位及廠商保有通貨的意願降低時，貨幣乘數會有何改變？
(A)越大 (B)不變 (C)越小 (D)無法判定
- 39 中央銀行對社會大眾拋售政府公債，將會發生下列何種情況？
(A)銀行存款準備增加並且貨幣供給增加 (B)銀行存款準備增加並且貨幣供給減少
(C)銀行存款準備減少並且貨幣供給增加 (D)銀行存款準備減少並且貨幣供給減少
- 40 如果所得稅率是 50%，通貨膨脹率是 5%，您借給某位好友 2,000 元，言明名目利率是 10%，則您的稅後實質利息收入約為：
(A) 200 元 (B) 100 元 (C) 95 元 (D) 5 元
- 41 消費者物價指數是用來：
(A)追蹤經濟體系大盤物價水準的變動 (B)監測生活水準的變動
(C)監測實質 GDP 水準的變動 (D)追蹤股市的變動
- 42 古典學派與凱因斯學派的總合供需分析中，以下敘述何者正確？
(A)兩學派有相同正斜率的總合供給線 (B)兩學派有相同垂直的總合供給線
(C)兩學派有相同負斜率的總合需求線 (D)兩學派有相同垂直的總合需求線
- 43 凱因斯模型中，若消費函數 $C = 200 + 0.75(Y - T)$ ，投資支出 $(I) = 政府稅收 (T) = 100$ ，則要達到 1,600 的所得 (Y) ，政府購買水準應該為多少？
(A) 125 (B) 175 (C) 185 (D) 195
- 44 下列何者會使得整體經濟之總合需求線右移？
(A)政府支出減少 (B)增稅 (C)貨幣供給增加 (D)能源成本增加
- 45 當新台幣有貶值的傾向時，中央銀行常在外匯市場賣出美元，致使我國的外匯存底節節下跌，此舉會導致我國的利率水準：
(A)下跌，且貨幣供給數量增加 (B)下跌，且貨幣供給數量減少
(C)提高，且貨幣供給數量增加 (D)提高，且貨幣供給數量減少
- 46 在經濟體系達充分就業階段，貨幣供給增加將使：
(A)產出水準增加 (B)產出水準減少 (C)物價水準上升 (D)物價水準下跌
- 47 造成總合需求線為負斜率的原因，不包括下列那個因素？
(A)財富效果 (wealth effect) (B)乘數效果 (multiplier effect)
(C)實質餘額效果 (real balance effect) (D)國際替代效果 (international substitution effect)
- 48 下列何項會產生外匯需求？
(A)外國對本國移轉性支付 (B)中央銀行拋售美元 (C)支付國外貸款利息 (D)外人對本國投資
- 49 進口商品價格變貴，可能原因為何？
(A)本國貨幣升值 (B)本國貨幣貶值 (C)本國商品變貴 (D)出口品漲價
- 50 如果一單位美元兌換新台幣的數量提高，則下列何者正確？
(A)我國與美國商品都變貴 (B)我國與美國商品都變便宜
(C)美國商品變貴 (D)美國商品變便宜

測驗題標準答案

考試名稱： 98年 公務人員特種考試身心障礙人員考試

類科名稱： 金融保險

科目名稱： 經濟學概要（試題代號：3408）

題 數： 50題

標準答案：

題序	01	02	03	04	05	06	07	08	09	10	11	12	13	14	15	16	17	18	19	20
答案	D	A	B	A	D	A	B	A	B	A	C	D	A	D	A	B	D	C	A	C

題序	21	22	23	24	25	26	27	28	29	30	31	32	33	34	35	36	37	38	39	40
答案	D	B	A	C	D	C	D	B	D	A	C	D	C	B	C	B	C	A	D	C

題序	41	42	43	44	45	46	47	48	49	50
答案	B	C	B	C	D	C	B	C	B	C

備 註： 無更正紀錄。