

臺灣菸酒股份有限公司 98 年第 3 至 5 職等新進從業人員甄試試題













職等／甄試類別【類組代碼】：5 職等／財務規劃人員【56001】

專業科目(三)：總體經濟及金融市場

\*請填寫入場通知書編號：\_\_\_\_\_

注意：①本試卷為一張單面，共有四大題之非選擇題，各題配分均為 25 分。

②限用藍、黑色鋼筆或原子筆於答案卷上採橫式作答，並請從答案卷內第一頁開始書寫，違反者該科酌予扣分。不必抄題但須標示題號，**不得使用鉛筆作答，違者不予計分。**

③應試人得自備僅具數字鍵 0~9 及 + - × ÷ √ % =   +/-  C  AC  TAX+  TAX-  GT  MU  MR  MC  M+  M- 功能，且不具財務、工程及儲存程式功能之簡易型計算機應試，若應考人於測驗時使用不符規定之電子計算機，該科扣 10 分。

④答案卷務必繳回，未繳回者該科以零分計算。

**題目一：**

請以 IS-LM 模型分別說明下列各項：

(一) 流動性陷阱 (Liquidity Trap)。【5 分】

(二) 請比較擴大公共支出與公開市場買入操作對利率與所得之影響。【10 分】

(三) 當面對商品市場干擾，央行想要維持所得穩定，應該控制貨幣供給量或利率？【10 分】

**題目二：**

請回答下列問題：

(一) 當求職人數等於求才人數，社會上是否即不存在失業問題？其理由為何？【15 分】

(二) 菲利普曲線 (Phillips curve) 的意義為何？【10 分】

**題目三：**

債券價格是由債券的供需決定，請回答下列問題：

(一) 債券價格與市場利率的關係如何？【7 分】

(二) 其他條件不變，若預期通貨膨脹率上升，對債券供需及債券價格之影響如何？【9 分】

(三) 其他條件不變，在擴張性的商業循環 (business cycle expansion) 階段，對債券供需及債券價格之影響如何？【9 分】

**題目四：**

對於金融市場是否具有效率性，請針對下列各項進行分析：

(一) 理性預期 (rational expectation) 與效率市場假說 (efficient market hypothesis) 【10 分】

(二) 對於效率市場假說的反論，請列舉三種。【15 分】