

103年公務人員特種考試司法人員、法務部調查局調查人員、國家安全局
國家安全情報人員、海岸巡防人員及移民行政人員考試試題

代號：2151
頁次：6-1

考試別：司法人員
等別：五等考試
類科組：各類科
科目：公民與英文
考試時間：1小時

座號：_____

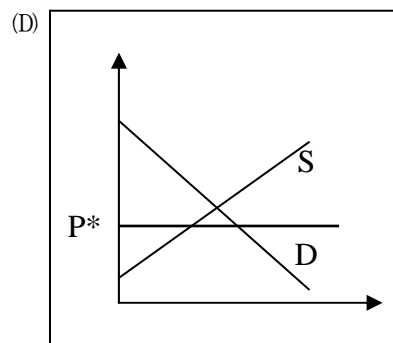
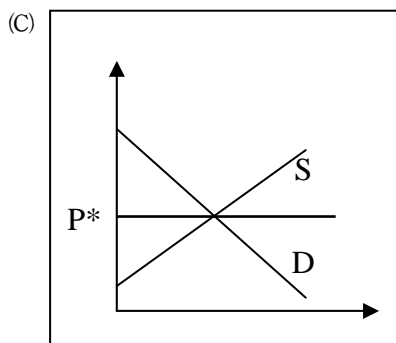
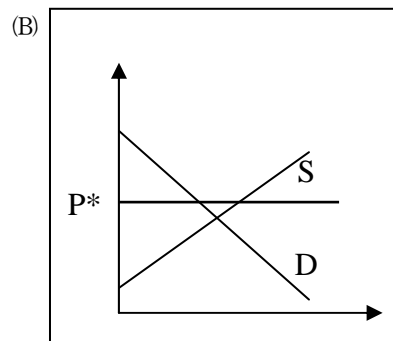
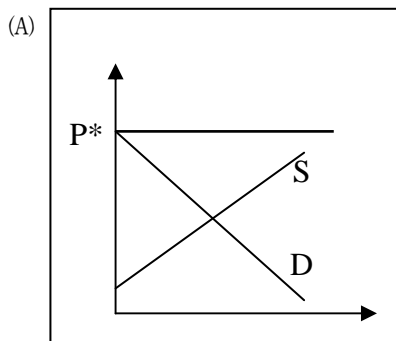
※注意：(一)本試題為單一選擇題，請選出一個正確或最適當的答案，複選作答者，該題不予計分。
(二)本科目共 50 題，每題 2 分，須用 2B 鉛筆在試卡上依題號清楚劃記，於本試題上作答者，不予計分。
(三)禁止使用電子計算器。

- 建隆在專題報告時提到：「在電視節目中，女性多被描繪成溫柔、害羞且喜愛居家生活；男性則較具領導才能和獨立見識；老人的行為則常與社會脫節。」根據上述判斷，他最可能是在探討有關媒體的那一主題？
(A)總白癡化 (B)置入性行銷 (C)媒體近用權 (D)歧視與刻板印象
- 「性別平等」是對性別尊重的觀念與態度，期望每一個人有相同的發展機會，以及適才適性發展的權利。下列那一個敘述較能符合性別平等的意涵？
(A)企業設立女性專屬百貨公司，規定男性須有女性作陪才能進入
(B)單親家庭協助對象為單親媽媽，若是單親爸爸就無法提供協助
(C)張家已有一女，但張先生要求張太太必須繼續生男以傳宗接代
(D)各級學校教評會的組成，任何單一性別成員不得少於三分之一
- 對部分西方人而言，印度教禁止宰牛和吃牛肉似乎有點愚昧，尤其印度有相當多人長期處於飢餓狀態，但學者認為研究異國人民的習俗時，不應該以自己所了解的文化內涵，用來對該文化加以評價。上述學者的觀點，最符合下列何者的精神？
(A)文化資本論 (B)文化相對論 (C)文化進化論 (D)族群中心主義
- 下列選項為我國政府的施政措施，何者符合學者羅爾斯「社會正義論」的觀點？
(A)因美元貶值現象，中央銀行實施維持新臺幣匯率政策
(B)臺灣高鐵鼓勵旅客提早規劃旅程，推出早鳥票價優惠
(C)為壓制房市投資客炒作，要求房屋交易實價登錄
(D)依薪資高低繳納健保費，並由政府補助弱勢族群
- 王先生為推廣健走運動，擬成立一個全國性社團，下列對於王先生所成立的社團之敘述，何者較為正確？
(A)大明：社團成立一定需要經費支援，只能以基金會名義才能申請
(B)阿德：此社團明顯為非營利性質，因此不得以社團法人名義申請
(C)小志：因健走屬於體育類，所以須由教育部體育署核准才能成立
(D)阿華：依人民團體法之社團類型，此社團應歸類於社會團體類別
- 某一個國際組織 2005 年的報告指出：「從 2003 年以來，全球感染禽流感病毒有 126 人，至少已有 64 人死亡。禽流感病毒現今仍然主要是在鳥類與家禽中傳染的病毒。」請問：由上述內容判斷，這報告應是下列那一個國際組織所提出的？
(A)歐洲聯盟 (EU) (B)世界貿易組織 (WTO)
(C)世界衛生組織 (WHO) (D)國際紅十字會 (ICRC)
- 「政黨」與「利益團體」都是民眾參與政治的管道，但是兩者之間卻有些差異。下列關於政黨與利益團體比較的敘述，何者正確？
(A)利益團體對議題關切的全面性不如政黨 (B)政黨整合民意的能力不如利益團體
(C)政黨比利益團體更著重自身利益 (D)利益團體比政黨更熱衷投入選舉

- 8 西方民主思想家孟德斯鳩提出「權力分立」概念，認為行政、立法與司法三權應該分屬不同部門，且彼此具有互相制衡的機制。下列那一個敘述，最足以彰顯孟德斯鳩此一主張？
- (A)美國總統任命國務卿時須經參議院同意 (B)英國首相由國會中過半數政黨的黨魁兼任
(C)日本天皇屬於虛位元首，不具行政實權 (D)我國的行政院院長由總統直接任命產生
- 9 在全球化的浪潮下，國際互動頻繁，國際組織與區域統合亦蓬勃的發展，歐盟即為一例。歐盟在其經濟體系內，要求會員國遵守並執行共同的貨幣政策；必要時，還將干涉相關國家之財政。在上述情況下，傳統主權國家的特色，何者將面臨最直接與強烈的衝擊？
- (A)明確的領土與國界 (B)國家與文化的認同
(C)政府權威的正當性 (D)各國家的主權行使
- 10 內閣制國家在政府體制上擁有議會（國會）至上之特色，下列何者為內閣制國會之特色？
- (A)由國會多數黨領袖出任國家行政首長
(B)國會與內閣各自對人民負責，不得互相解散
(C)內閣制國家國會多為一院制，以確立其最高性
(D)國會議長擁有覆議否決權，以建立法律一致性
- 11 我國在第七次修憲後，將立法委員選舉方式改為單一選區兩票制。關於我國立法委員的選舉方式，下列敘述何者正確？
- (A)立法委員自第七屆起減為 113 席，任期 4 年，連選得連任一次
(B)區域立法委員共選出 73 席，每縣市至少 1 人，並按應選名額劃分同額選舉區選出之，各政黨婦女當選席次不得低於 1/2
(C)原住民立法委員依平地原住民及山地原住民，各選出 3 席，此選制為複數選區相對多數法
(D)全國不分區及僑居國外國民立法委員共 34 席，且依區域立委選票之政黨得票率計算該黨之當選席次
- 12 我國憲法屬於剛性憲法，修正皆有一定的程序。下列關於我國憲法修正的敘述，何者正確？
- (A)目前我國立法院已經可以直接制定新的憲法
(B)我國修憲案是由大法官經由憲法法庭修改後提案
(C)我國憲法修正案提案通過後，要交由國民大會複決通過
(D)目前我國憲法修正均是以增修條文的形式來進行
- 13 「行政院對於立法院決議之法律案、預算案、條約案，如認為有窒礙難行時，得經總統之核可，於該決議案送達行政院①十日內，移請立法院覆議。立法院對於行政院移請覆議案，應於送達②十五日內作成決議。覆議案逾期未議決者，原決議失效。覆議時，如經③全體立法委員三分之二以上決議維持原案，④行政院院長得呈請總統解散立法院。」以上關於覆議案敘述之底線部分，何者正確？
- (A)①② (B)①④ (C)②③ (D)③④
- 14 若某選區立法委員候選人對開票結果之票數有所質疑，足認有影響選舉結果之虞，欲尋求司法救濟。依我國公職人員選舉罷免法及相關法規之規定，該候選人之救濟途徑應為下列何者？
- (A)以該縣市選舉委員會為被告，向高等行政法院提起選舉無效之訴
(B)以當選人為被告，向地方法院民事庭提起當選無效之訴
(C)以當選人為被告，向高等行政法院提起當選無效之訴
(D)以中央選舉委員會為被告，向高等法院提起選舉無效之訴
- 15 兩岸關係對峙日趨和緩，民間交流頻繁，就現階段而言，下列何者為我國對大陸地區人民往來最重要的法律依據？
- (A)臺灣關係法 (B)反分裂國家法
(C)國家統一綱領 (D)臺灣地區與大陸地區人民關係條例
- 16 德國在 2013 年的國會大選中，原本與總理梅克爾所屬的基督教民主聯盟共組執政內閣的自由民主黨，遭受空前嚴重挫敗，在德國戰後歷史上首次未能獲得進入議會所需的 5% 的選票，自民黨黨魁羅斯勒因而辭職下台，羅斯勒的作為主要在展現何種民主政治的特色？
- (A)民意政治 (B)法治政治 (C)責任政治 (D)政黨政治

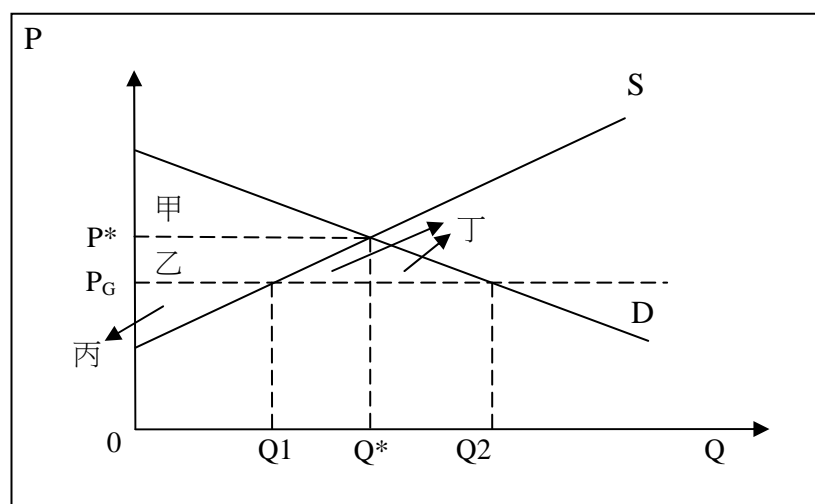
- 17 住在高雄的丁丁因不滿住臺南的網友小波在網路上稱他是「腦殘」，憤而對小波提出侵害名譽的民事告訴。依我國相關法律規定，丁丁應向下列那個機關提出告訴？
(A)高雄地方法院檢察署 (B)臺南地方法院檢察署
(C)高雄地方法院 (D)臺南地方法院
- 18 環環現年 19 歲，某日借同事的機車出外買晚餐，不慎撞到婦人，因此造成婦人多處擦傷。依我國相關法律規定判斷，下列敘述何者正確？
(A)環環應負損害賠償責任或與其法定代理人連帶負責
(B)環環與法定代理人皆不須負損害賠償責任
(C)由法定代理人承認後，環環才負損害賠償責任
(D)環環僅需負擔部分責任，法定代理人負部分責任
- 19 依現行家庭暴力防治法規定，下列何種保護令，當事人無法直接向法院聲請，須透過檢察官、警察機關或直轄市政府、縣（市）政府代為聲請？
(A)通常保護令 (B)暫時保護令 (C)緊急保護令 (D)永久保護令
- 20 依我國刑法規定，下列何者可免除刑事責任而不受罰？
(A)19 歲自幼瘖啞的阿明，因失業在街上行竊被捕
(B)81 歲的阿輝開車撞傷路人
(C)18 歲的盧蠻為躲避警察追捕，將警員打傷
(D)5 歲的小新好奇玩火不慎引起火災，造成傷亡
- 21 2011 年 10 月間，國內三大乳品業者因調漲鮮乳價格，不但漲價金額趨於一致，且調漲額度遠超過生乳收購價增加的成本，業者雖依法遞交書面報告陳述鮮乳價格調整的原因，但公平交易委員會仍認定聯合行為成立予以開罰。依據上述，公平會開罰之作為，下列何者屬之？
(A)行政指導 (B)行政規則 (C)行政處分 (D)行政契約
- 22 憲法保障人民有參政的權利，參政權分為選舉、罷免、創制、複決、應考試、服公職等權利。在我國相關法律的規定中，人民行使複決權是以下列何種方式表現？
(A)選舉活動 (B)公民投票 (C)連署活動 (D)集會遊行
- 23 下列那些行為必須經由法院核發令狀許可，檢察官方可為之？①將犯罪嫌疑人改列為被告 ②搜索犯罪嫌疑人住處 ③傳喚嫌疑人到場詢問 ④監聽犯罪嫌疑人手機通訊
(A)①② (B)③④ (C)②④ (D)①③
- 24 當被告對法官所作羈押之裁定，認為權利受侵害或不服裁定結果時，依據我國相關法令之規定，可提出下列何項司法權上的救濟？
(A)上訴 (B)申訴 (C)訴願 (D)抗告
- 25 近年來世界各國紛紛推動「政府改造」運動，我國政府也朝向「企業型政府」的方向進行改造，這類革新運動是因為社會出現了什麼問題？
(A)資本主義造成企業家與勞工階級的對立
(B)政府的規模不斷擴張，導致行政效率低落
(C)傳統社區價值崩解，人民不願關心公共事務
(D)社會上出現許多弱勢團體，長期處於社會最下階層
- 26 隨著二代健保施行，衛生福利部中央健康保險署研議針對輕症急診、慢箋領藥、高就診次數者加收部分費用。上述作法，最可能是為減緩公共利益推動時常面臨的何項問題？
(A)鄰避效應 (B)共有財的悲歌 (C)「搭便車」問題 (D)租稅效率與公平
- 27 在全球化浪潮下，國際組織在國際關係中扮演的角色也愈趨重要。下列有關國際組織的敘述，何者正確？
(A)國際貨幣基金會（IMF）主要是發行貨幣的機構
(B)世界銀行（WB）針對發展中國家提供中長期貸款
(C)世界貿易組織（WTO）主要任務是促進國際匯率穩定
(D)東南亞國家協會（ASEAN）主要在推動貿易保護政策

- 28 一國的貨幣過多或過少對該國的經濟都會造成不好影響，貨幣供給受到中央銀行的控制，因此貨幣供給曲線應為下列何者？
 (A)一條負斜率的直線 (B)一條正斜率的直線 (C)一條水平線 (D)一條垂直線
- 29 失業率的種類有很多，下列何者屬於「自然失業率」？
 (A)摩擦性失業率+結構性失業率+循環性失業率 (B)摩擦性失業率+結構性失業率
 (C)摩擦性失業率+循環性失業率 (D)摩擦性失業率
- 30 許多社會事件不只與當事人有關，連帶還會影響社會中的其他群眾。因此當社會事件頻傳時，常會出現人心浮動與不安的現象。若以經濟學成本的角度來看，這是在說明下列何者？
 (A)外部成本 (B)機會成本 (C)外顯成本 (D)內部成本
- 31 假設政府欲以強制力干預市場，而針對某項商品制定了「價格上限」 P^* ，則 P^* 必須位於圖中的那一位置，才會對市場發生影響力？



- 32 報載：「澳洲近年的乾旱使葡萄藤乾死，嚴重影響葡萄採收量。更重要的是，種植釀製高級葡萄酒用的葡萄需要穩定的氣候，當氣溫高於約 35°C 時，葡萄的光合作用將發生問題，促使葡萄內的糖分製造失敗，而影響葡萄酒的品質。」依此報導內容，在不考慮其他條件的情況下，澳洲的乾旱將會對「高級葡萄酒市場」造成何種效果？
 (A)均衡價格上漲，交易數量增加
 (B)均衡價格上漲，交易數量減少
 (C)均衡價格下跌，交易數量增加
 (D)均衡價格下跌，交易數量減少
- 33 假設市場上甲、乙兩種財貨的關係是：當甲的價格上漲，乙的需求就會減少；反之，當甲的價格下跌，乙的需求就會增加。甲、乙兩種財貨間的關係是屬於下列何者？
 (A)互補品 (B)替代品 (C)劣等財 (D)季芬財

- 34 下圖為幸福國手機市場供需圖， P^* 與 Q^* 分別為該國手機市場的均衡價格與數量。在與他國進行國際貿易後， P_G 為國際手機市場的均衡價格，下列何項敘述對該圖有正確之解釋？



- (A)圖中說明該國加入國際市場後為手機產品之出口國
 (B)在開放國際市場後，該國的消費者剩餘為甲+乙+丁
 (C)在加入國際市場後，該國手機市場均衡量為 $Q_2 - Q_1$
 (D)該國進行國際貿易後，經濟福祉增加為甲+乙+丙-丁
- 35 前蘇聯時代由於市場上長期處於供需失調的情況，經常造成民生物資缺乏的現象，消費者無法購買到所需的物資，於是莫斯科街上常常出現排隊購物的人潮。根據上述內容判斷，前蘇聯時期的經濟制度應偏向何者？
- (A)市場經濟 (B)統制經濟 (C)混合經濟 (D)放任經濟
- 36 Due to the heavy rain, the meeting has been _____.
 (A)pulled off (B)taken off (C)called off (D)turned off
- 37 Without his parents' _____, Jonathan cannot go out with his friends.
 (A)performance (B)suspicion (C)discovery (D)permission
- 38 I usually buy traveller's cheques so that I don't have to carry too much _____ around with me when I go on a long trip.
 (A)cash (B)luggage (C)tickets (D)clothing
- 39 Waiter: Sir, are you ready to order now?
 John: _____
 Waiter: I will come back later.
 (A)I'm always ready for food. (B)Not yet.
 (C)What can I say? (D)Yes, I will reserve a table of four.
- 40 Mary: Would you mind opening the window?
 John: _____
 Mary: Thank you.
 (A)Yes, I don't mind. (B)No, not at all. (C)Yes, please. (D)No, it's too cold.

請依下文回答第 41 題至第 45 題：

Around the world, more and more women are working outside the home. In the United States, around 70 percent of women with children under 18 41 another job besides that of mother and homemaker. Most 42 in traditional fields for women, such as clerical, sales, education, and service. However, a growing number choose a career 43 necessitates spending many hours away from home. These women are engineers, politicians, doctors, lawyers, and scientists, and a few have begun to occupy executive positions in business, government, and banking, 44 through the so-called glass ceiling.

Nowadays, some women work full time, some part time, and some seek creative solutions 45 flex-time work schedules and job sharing. Many are single mothers raising children by themselves. But in most cases, one income in the household is simply not enough, so both parents must work to support the family.

- 41 (A)has (B)they have (C)who have (D)have
42 (A)employ (B)are employed (C)are employing (D)will employ
43 (A)that (B)who (C)what (D)whose
44 (A)breaks (B)break (C)breaking (D)broken
45 (A)now that (B)so that (C)even though (D)such as

請依下文回答第 46 題至第 50 題：

Gasoline used to be very cheap in the United States. Companies bought oil cheaply from overseas and turned it into gasoline. The government encouraged the low prices and did not tax gasoline much. Americans became used to larger and larger cars that took a lot of gasoline to run. The amount of gasoline a car uses depends on the car's size and weight, along with the design of the engine.

Gasoline in Western Europe and Japan, however, was very expensive, partly because governments put high taxes on gasoline to raise money. Cars built in Western Europe and Japan were generally small and light, and they used much less gasoline.

In 1973, some of the countries that sold oil to the United States stopped selling it. As a result, there wasn't enough gasoline, and the price of oil products, including gasoline, rose sharply. The prices stayed high when the oil-producing countries started to sell oil again in 1974.

- 46 According to the article, which of the following statements is true?
(A)Gasoline used to be cheaper in Western Europe than in the United States.
(B)Cars built in Japan were generally larger than those built in Europe.
(C)Unlike Japanese companies, U.S. companies never built small cars.
(D)The U.S. Government used to put a low tax on gasoline.
- 47 What can be said of the cost of the oil that U.S. companies used to import from overseas?
(A)High. (B)Extreme. (C)Inexpensive. (D)Expensive.
- 48 Which of the following is NOT mentioned as a factor in the amount of gasoline a car uses?
(A)The color of the car (B)The size of the car
(C)The weight of the car (D)The design of the engine
- 49 According to the article, the price of gasoline rose in the U.S. in 1973 because _____.
(A)there were more cars imported from Japan
(B)there was a huge gasoline shortage
(C)there were fewer gasoline stations
(D)there were more cars imported from Western Europe
- 50 Which of the following statements can be inferred from the article?
(A)U.S. companies bought oil from overseas at a much lower price in 1974 than in 1973.
(B)In 1973, the U.S. Government put a high tax on gasoline and caused its price to rise sharply.
(C)Travelling in the U.S. is cheaper than travelling in Western Europe.
(D)In order to save money on gasoline, people would prefer Japanese small cars to American large cars.

測驗式試題標準答案

考試名稱：103年公務人員特種考試司法人員、法務部調查局調查人員、國家安全局國家安全情報人員、海岸巡防人員及移民行政人員考試

類科名稱：各類科

科目名稱：公民與英文（試題代號：2151）

單選題數：50題

單選每題配分：2.00分

複選題數：

複選每題配分：

標準答案：

題號	第1題	第2題	第3題	第4題	第5題	第6題	第7題	第8題	第9題	第10題
答案	D	D	B	D	D	C	A	A	D	A

題號	第11題	第12題	第13題	第14題	第15題	第16題	第17題	第18題	第19題	第20題
答案	C	D	A	B	D	C	D	A	C	D

題號	第21題	第22題	第23題	第24題	第25題	第26題	第27題	第28題	第29題	第30題
答案	C	B	C	D	B	B	B	D	B	A

題號	第31題	第32題	第33題	第34題	第35題	第36題	第37題	第38題	第39題	第40題
答案	D	B	A	B	B	C	D	A	B	B

題號	第41題	第42題	第43題	第44題	第45題	第46題	第47題	第48題	第49題	第50題
答案	D	B	A	C	D	D	C	A	B	D

題號	第51題	第52題	第53題	第54題	第55題	第56題	第57題	第58題	第59題	第60題
答案										

題號	第61題	第62題	第63題	第64題	第65題	第66題	第67題	第68題	第69題	第70題
答案										

題號	第71題	第72題	第73題	第74題	第75題	第76題	第77題	第78題	第79題	第80題
答案										

題號	第81題	第82題	第83題	第84題	第85題	第86題	第87題	第88題	第89題	第90題
答案										

題號	第91題	第92題	第93題	第94題	第95題	第96題	第97題	第98題	第99題	第100題
答案										

備註：