

等 別：普通考試

類 科：華語領隊人員

科 目：觀光資源概要（包括世界歷史、世界地理、觀光資源維護）

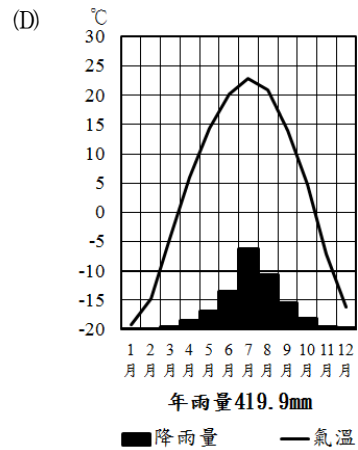
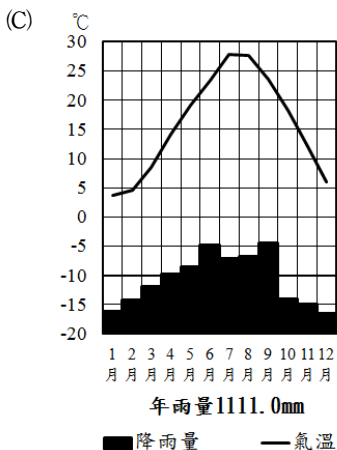
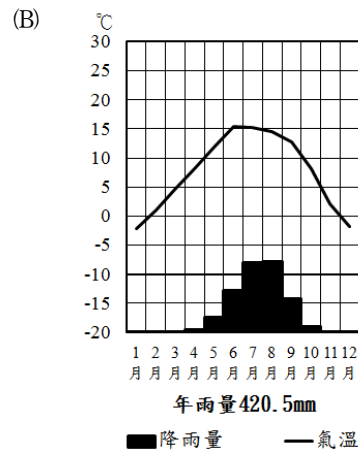
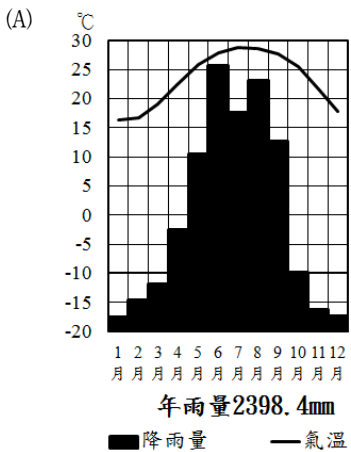
考試時間：1 小時

座號：\_\_\_\_\_

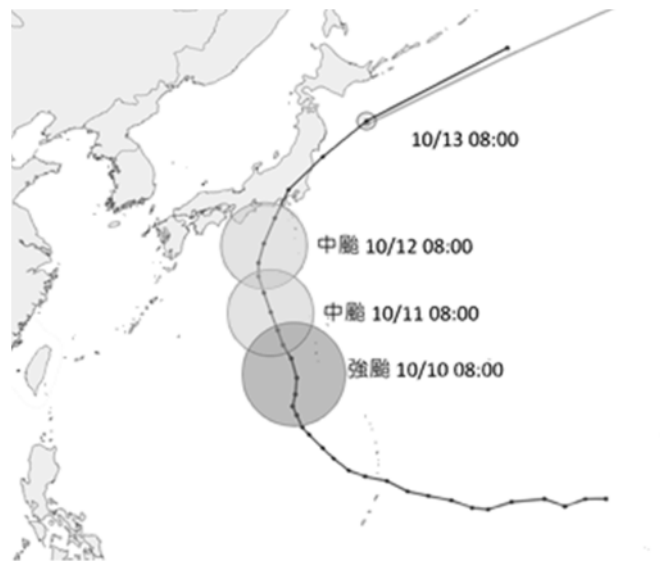
- ※注意：(一)本試題為單一選擇題，請選出一個正確或最適當的答案，複選作答者，該題不予計分。  
(二)本科目共 50 題，每題 2 分，須用 **2B** 鉛筆在試卡上依題號清楚劃記，於本試題上作答者，不予計分。  
(三)禁止使用電子計算器。

- 臺灣歷史上曾任臺大醫學院院長，並創辦高雄醫學院，致力於鴉片戒煙，此人為：  
(A)杜聰明 (B)蔡阿信 (C)李鎮源 (D)李應章
- 西元 1935 年 11 月，臺灣總督府終於在臺灣舉行了有史以來的第一次選舉，包括州、市會議員與街庄協議會會員。這是臺灣住民初次擁有選舉權，下列有關此次選舉的描述中，何者錯誤？  
(A)此次選舉為有限制選舉 (B)年滿 25 歲以上的住民，都有投票權  
(C)須繳稅年額在五圓以上 (D)投票率高達 96%
- 林獻堂、蔡培火等人被認為是日治時期非武裝抗日較右派的人。他們在文化協會、臺灣民眾黨陸續左傾後，於西元 1930 年組成什麼團體，宣稱其目的僅在要求州市街庄議員民選？  
(A)臺灣議會期成同盟 (B)臺灣地方自治聯盟 (C)臺灣議員民選聯盟 (D)臺灣工友總聯盟
- 有關清代新竹的敘述，下列何者錯誤？  
(A)舊名為竹塹 (B)長期是淡水廳治所在  
(C)清末鐵路的終點 (D)有北路理番同知駐紮於此
- 西元 1920 年蔡惠如、林獻堂等組織「新民會」，以推動撤廢那一個法令為主要目標之一？  
(A)法三號 (B)六三法 (C)匪徒刑罰令 (D)保甲條例
- 西元 1896 年，日本政府發布「六三法」，授權臺灣總督得頒行具有法律效力之命令，使臺灣總督擁有行政、立法、司法權之外，還包括下列何者？  
(A)監察 (B)軍事 (C)教育 (D)外交
- 下列何者與雅美族（達悟族）的文化無關？  
(A)飛魚 (B)拼板舟 (C)捕鹿 (D)船屋
- 臺灣原住民族的名稱多為「人」的意思，下列何者不是？  
(A)泰雅族 (B)布農族 (C)鄒族 (D)阿美族
- 在東南亞歷史上，西元 16 世紀的大事是緬甸與泰國之間一連串的戰爭，整體而言，是緬甸領土擴張時期，這一時期是屬於緬甸歷史上那一個王朝？  
(A)貢榜（Konbaung）王朝 (B)東吁（Toungoo）王朝  
(C)阿瓦（Ava）王朝 (D)蒲甘（Pagan）王朝
- 西元 1885 年法國征服越南後，反抗法國殖民統治運動隨之而起。其中，著有《越南淪亡史》一書，並於西元 1904 年創立「越南維新會」的越南反殖民運動領袖是：  
(A)潘周楨 (B)潘佩珠 (C)武元甲 (D)阮文紹
- 西元 19 世紀東南亞的現代化建設，大都是在殖民者的統治下所進行，下列何國的改革主要是自行主導？  
(A)越南 (B)柬埔寨 (C)緬甸 (D)泰國（暹羅）
- 法國曾在東南亞擁有殖民地。下列何國不曾受過法國的殖民統治？  
(A)越南 (B)寮國 (C)柬埔寨 (D)印尼
- 一般認為印尼為伊斯蘭教（回教）國家，但甚受觀光客喜愛的峇里島卻不盡相同。峇里島受下列何種宗教影響較大？  
(A)印度教 (B)佛教 (C)基督教 (D)天主教
- 菲律賓第一位女總統是誰？  
(A)科拉蓉·許範哥·艾奎諾 (B)伊美黛·馬可仕  
(C)南茜·雷根 (D)希拉蕊·柯林頓
- 寮國何時成為法國的保護國？  
(A)西元 1539 年 (B)西元 1645 年 (C)西元 1758 年 (D)西元 1893 年
- 西班牙勢力於何時進入菲律賓群島？  
(A)西元 8 世紀 (B)西元 10 世紀 (C)西元 14 世紀 (D)西元 16 世紀
- 臺灣某電視臺播出「臭頭洪武」的戲劇節目後，一家旅行社隨即推出「明太祖朱元璋」旅行團，該團主要行程應該在那一座城市？  
(A)西安 (B)北京 (C)南京 (D)洛陽

- 18 西元 2015 年 4 月 7 日的紐約時報報導，中國開封城內有一群猶太人後裔，依著猶太人的禮俗在做晨禱，並過逾越節，紀念猶太人在三千年前擺脫埃及人控制的歷史。報導又指出，雖然他們經過不斷的通婚、同化和受到孤立而人數稀少，並且因為 19 世紀中葉的黃河水患，以及 20 世紀文化大革命的影響經歷不少苦難，但他們仍然沒有中斷這項傳統。猶太人最早定居開封的可能時代為？  
(A)周代 (B)漢代 (C)唐代 (D)宋代
- 19 清末，魏源編著《海國圖志》的動機為何？  
(A)師夷之長技以制夷 (B)中國人不打中國人  
(C)無處不均勻、無人不飽暖 (D)包產到戶
- 20 日本明治時期曾經前往英國、德國訪視學習，主張開國進取，實施內閣制，其後成為日本首位內閣總理大臣的是：  
(A)福澤諭吉 (B)岩崎彌太郎 (C)矢內原忠雄 (D)伊藤博文
- 21 下列何者不是造成東漢政權崩解的原因？  
(A)黃巾之亂 (B)宦官亂政 (C)黨錮之禍 (D)藩鎮之亂
- 22 「舉秀才不知書，察孝廉父別居；寒素清白濁如泥，高第良將怯如雞。」係批評某時代的制度，其弊病為：  
(A)重文輕武，武將怯於作戰 (B)八股取士，造成任官不重人品  
(C)察舉不實，所推舉者多屬假偽 (D)缺乏晉身管道，人民不滿
- 23 玄奘西行取經路線，需經今日中國境內那個省分？  
(A)廣東省 (B)山西省 (C)河北省 (D)甘肅省
- 24 某山五峰聳立，遠眺如同一朵盛開的蓮花，並以險峻和道教聖地著稱於世，為五嶽中的西嶽。該山為下列何者？  
(A)泰山 (B)華山 (C)嵩山 (D)恆山
- 25 華北地區傳統主要糧食作物以小麥、玉米、高粱、小米等旱作為主。此一事實和下列何種自然因素關係最密切？  
(A)地形 (B)日照 (C)土壤 (D)雨量
- 26 坎兒井是古代重要水利工程之一，遊客若欲至中國參觀此一景觀，應安排到下列那一省區旅遊？  
(A)江蘇 (B)四川 (C)山東 (D)新疆
- 27 「冰城」哈爾濱的冰雪節，每年均吸引大量國內外遊客前來。哈爾濱適合舉辦冰雪節的原因，與哈爾濱屬於下列那一種氣候圖所代表氣候類型有關？



- 28 「一年無四季，一日見四季」的俗諺，最可能是描述那個地理區的氣候特色？  
(A)雲貴高原 (B)黃土高原 (C)青藏高原 (D)內蒙古高原
- 29 全長近 7,000 公里的陸上絲綢之路，在甘肅省境內綿延 1,600 多公里，該省省會蘭州則位於中國陸域版圖的幾何中心。下列關於蘭州位置重要性的敘述何者符合事實？  
(A)西漢絲綢之路的起點 (B)渭河與黃河的交會處  
(C)黃土高原和華北平原的交會處 (D)隴海鐵路與蘭新鐵路的交會處
- 30 中國那一個省級行政區，其自然環境的天然形勢有「三山夾兩盆」之稱？  
(A)西藏自治區 (B)內蒙古自治區 (C)廣西壯族自治區 (D)新疆維吾爾自治區
- 31 中國行駛於某條鐵路的列車，採用全封閉式車廂且車窗為防壓差雙層玻璃，車上座位設有供氧口。該鐵路最可能是下列何者？  
(A)青藏鐵路 (B)滇越鐵路 (C)京張鐵路 (D)川滇鐵路
- 32 屬於齒軌列車的「少女峰鐵道」，全長 7 公里，讓旅人從谷底一路緩緩爬至山巔，來到全歐洲最高、海拔 3,454 公尺的少女峰火車站，眺望阿爾卑斯山脈最大的阿萊奇冰河。阿爾卑斯山地區不可能出現下列那一種冰河地形？  
(A)冰斗 (B)峽灣 (C)槽湖 (D)U 型谷
- 33 中國武術中有名的少林寺，建於西元 5 世紀，是中國漢傳佛教的禪宗祖庭。該佛寺位於五嶽中的何者？  
(A)北嶽 (B)中嶽 (C)東嶽 (D)西嶽
- 34 西元 2019 年 10 月哈吉貝颱風在日本帶來嚴重災情，颱風中心經過的地區尤為嚴重。根據圖中的颱風路徑，若該年 10 月底前往日本旅遊，下列那條旅遊路線可能受到颱風影響而須調整景點？

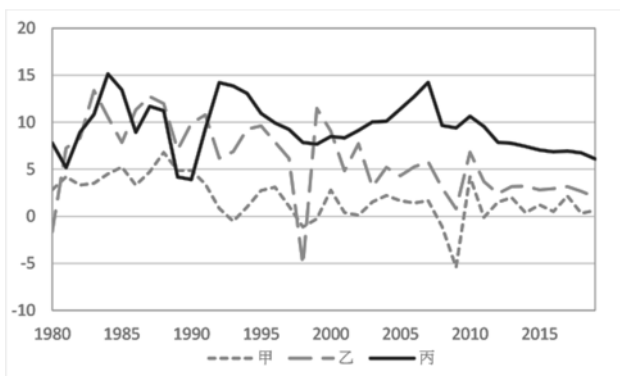


- (A)雪國風情畫：旭山動物園、小樽浪漫街道、函館夜景  
(B)薩摩森林物語：霧島神宮、鹿兒島市區、屋久國立公園  
(C)漫遊神奈川：新橫濱拉麵博物館、箱根登山鐵道、鎌倉觀光鶴岡八幡宮  
(D)小資雙鐵遊：道太宰府觀光列車、熊本縣吉祥物 Kumamon 萌熊電車、歐風門司港
- 35 某人想在七、八月期間，前往歐洲觀看一級方程式賽車 (F 1)。下列那一個城市舉辦比賽時，因適逢乾季，故車手最不需要擔心在比賽時，需要臨時更換雨天使用的輪胎？  
(A)比利時 (B)奧地利 (C)西班牙 (D)匈牙利
- 36 西伯利亞鐵路連接莫斯科和海參崴，全長逾 9,200 公里。鐵路沿途最常見的自然景觀為何？  
(A)雨林 (B)沙漠 (C)苔原 (D)針葉林
- 37 某國於西元 2004 年加入歐盟，照片為該國國旗，國旗中可看到國土的輪廓和橄欖枝。該國最可能位於下列那個海域？  
(A)紅海  
(B)黑海  
(C)地中海  
(D)波羅的海



- 38 下圖為中國、日本、南韓等三國的國內生產毛額（GDP）成長率，根據圖中資料推測，何者為乙國首都的重要觀光景點？

(A)金剛山  
(B)景福宮  
(C)紫禁城  
(D)明治神宮



- 39 澳洲擁有獨特優美的自然景觀，也孕育豐富多樣的動植物生態，吸引世界大量遊客，其中某知名旅遊景點注意事項如下「夏季氣溫通常可能會高達攝氏 40 度，請務必攜帶遮陽防曬帽、太陽眼鏡、防曬乳；避免劇烈運動，並隨時補充水分。冬天日夜溫差極大，清晨氣溫約 0 度上下，中午仍可達 20 度，請準備防寒或保暖衣物，以備清晨參加日出之旅。」根據文中所描述的氣候特性，該旅遊景點最可能為下列何處？  
(A)大堡礁 (B)烏魯魯 (C)黃金海岸 (D)雪梨歌劇院
- 40 臺灣企業透過溫室控管蝴蝶蘭的生長環境，力求大規模生產與品質穩定，跡及海外行銷而享譽國際。此種農業經營特色，下列何種概念形容最為貼切？  
(A)產銷履歷 (B)精緻農業 (C)生態農業 (D)公平交易
- 41 臺灣於西元 2016 年開始積極推動新南向政策，希望改變過去以單向在東協及南亞國家成立生產基地為代工廠的政策作法，新南向政策推動計畫希望擴大與新南向 18 個國家進行包括人才、資金、技術、文化、教育等的互動交流，創造互利共贏的新合作模式，逐步達成建立「經濟共同體意識」的目標。新南向 18 國中有兩國並非亞洲國家，該兩國是：  
(A)英國、德國 (B)美國、加拿大 (C)伊朗、阿富汗 (D)紐西蘭、澳大利亞
- 42 乾隆中葉到嘉慶年間，新莊由於瀕臨大嵙崁溪，富港口之利，是淡水河沿岸重要的河港，商業貿易興盛。當時新莊主要出口的物產為下列何者？  
(A)茶葉 (B)樟腦 (C)稻米 (D)蔗糖
- 43 芬蘭境內有將近十九萬個湖泊，為該國贏得「千湖國」的美譽。形成該國湖泊眾多的主要營力作用為何？  
(A)斷層作用 (B)火山作用 (C)冰河作用 (D)風力作用
- 44 美國某都市位於地中海型氣候區，影視、娛樂、文化等產業發達，亞裔人口眾多，是美國人口規模第二大的都市。該都市最可能是：  
(A)西雅圖 (B)波士頓 (C)洛杉磯 (D)亞特蘭大
- 45 紅茶屬於全發酵茶，產地主要分布在中國、斯里蘭卡、印度、肯亞等國。以產地命名的單一產區茶稱為單品茶，下列那些單品茶來自印度？①錫蘭 ②祈門 ③阿薩姆 ④大吉嶺  
(A)①② (B)①③ (C)②④ (D)③④
- 46 風景區之遊客社會心理承載量，與下列何者較無關係？  
(A)園區內遊客數量 (B)園區內車輛數量  
(C)園區內遊客之社會經濟背景 (D)園區內之擁擠程度
- 47 「LNT (Leave No Trace)」是指什麼？  
(A)無痕山林運動 (B)大地遊戲 (C)匿蹤行動 (D)你丟我撿運動
- 48 下列何者是以遊客體驗為本的遊憩管理模式？  
(A)遊憩機會序列 (Recreation Opportunity Spectrum)  
(B)目標管理循環 (Plan-Do-Check-Action)  
(C)標準作業流程 (Standard Operation Procedure)  
(D)PZB 服務品質概念模式 (PZB Conceptual Model of Service Quality)
- 49 下列那項觀光遊憩衝擊管理策略較為不妥當？  
(A)分析影響衝擊之因子 (B)監測觀光遊憩社會衝擊  
(C)加強遊客環境教育 (D)嚴格管制山林遊憩活動
- 50 前往中國蘇州地區旅遊時，下列何者對該地區水鄉古鎮同里的介紹錯誤？  
(A)中國國家 AAAA 級旅遊景區  
(B)景區中核心景點退思園，於西元 2000 年被列入世界文化遺產名錄，為江南水鄉古鎮中唯一的世界文化遺產所在地  
(C)同里俗稱「富土」，因其名太多，在宋代將「富土」兩字相疊，上去點，中橫斷，拆字為同里，沿用至今  
(D)同里歷史悠久，文化底蘊深厚，歷史上先後出狀元 1 人、進士 42 人、舉人 93 人

# 測驗式試題標準答案

考試名稱：110年專門職業及技術人員普通考試導遊人員、領隊人員考試

類科名稱：華語領隊人員

科目名稱：觀光資源概要（包括世界歷史、世界地理、觀光資源維護）（試題代號：3601）

單選題數：50題

單選每題配分：2.00分

複選題數：

複選每題配分：

標準答案：

題號	第1題	第2題	第3題	第4題	第5題	第6題	第7題	第8題	第9題	第10題
答案	A	B	B	D	B	B	C	D	B	B

題號	第11題	第12題	第13題	第14題	第15題	第16題	第17題	第18題	第19題	第20題
答案	D	D	A	A	D	D	C	D	A	D

題號	第21題	第22題	第23題	第24題	第25題	第26題	第27題	第28題	第29題	第30題
答案	D	C	D	B	D	D	D	C	D	D

題號	第31題	第32題	第33題	第34題	第35題	第36題	第37題	第38題	第39題	第40題
答案	A	B	B	C	C	D	C	B	B	B

題號	第41題	第42題	第43題	第44題	第45題	第46題	第47題	第48題	第49題	第50題
答案	D	C	C	C	D	C	A	A	D	A

題號	第51題	第52題	第53題	第54題	第55題	第56題	第57題	第58題	第59題	第60題
答案										

題號	第61題	第62題	第63題	第64題	第65題	第66題	第67題	第68題	第69題	第70題
答案										

題號	第71題	第72題	第73題	第74題	第75題	第76題	第77題	第78題	第79題	第80題
答案										

題號	第81題	第82題	第83題	第84題	第85題	第86題	第87題	第88題	第89題	第90題
答案										

題號	第91題	第92題	第93題	第94題	第95題	第96題	第97題	第98題	第99題	第100題
答案										

備註：